

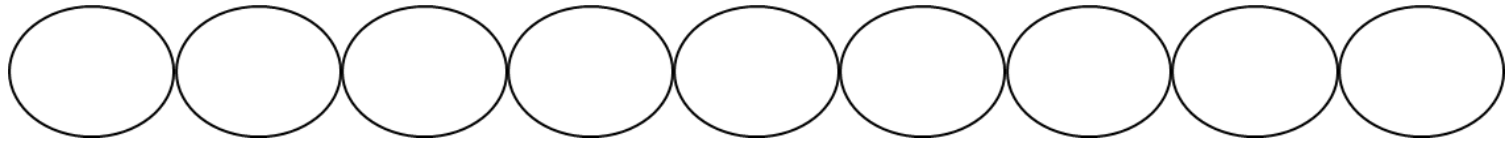
^え絵を見て、^みかけざんのしきをとこたえをかきましょう。

① キャンディが45こあります。1ふくろに9こずつ入れたら、ふくろは何ふくろいらいますか。

$$\square \div \square = \square$$

$$9 \times \square = 45$$

^{こた}答え _____

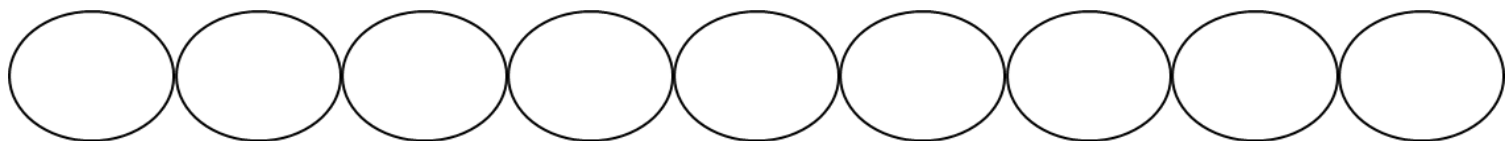



② ビスケットが81こあります。1さらに9こずつのせたら、さらは何まいいらいますか。

$$\square \div \square = \square$$

$$9 \times \square = 81$$

^{こた}答え _____



③ ぶどうが54ぶさあります。1つのさらに9ぶさずつおいたら、さらは何さらいらいますか。

$$\square \div \square = \square$$

$$9 \times \square = 54$$

^{こた}答え _____

