

わりざん 3でわる ねん 年 くみ 組

なまえ 名前

どらやきが27こあります。3人で同じ数ずつ分けると、1人分は何こになりますか。

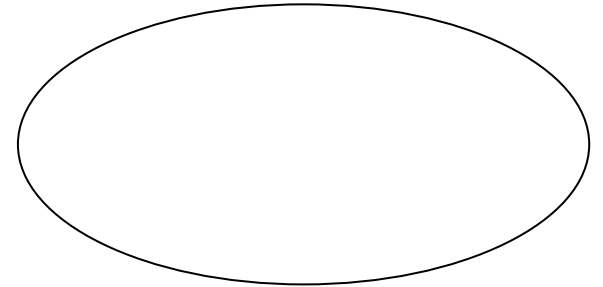
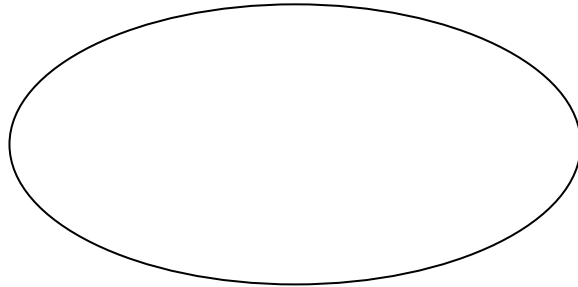
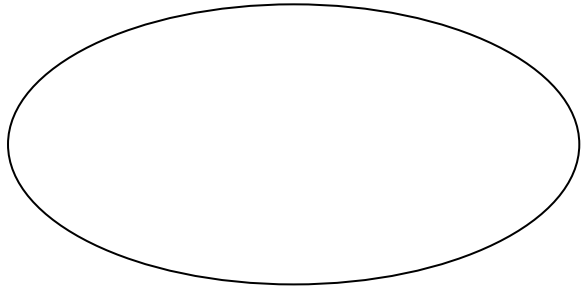

$$\square \div \square = \square$$

こたえ

こたえをみつけるのは、かけざんです。

$$3 \times \square = 27$$

え 絵でたしかめましょう。



どらやきが24こあります。3人で同じ数ずつ分けると、1人分は何こになりますか。

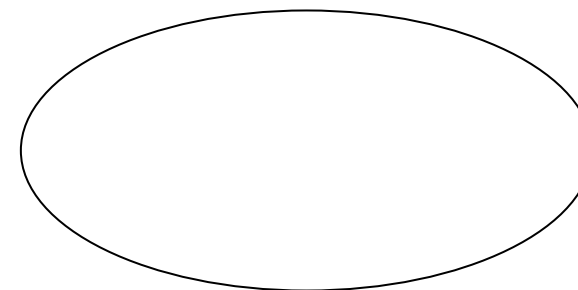
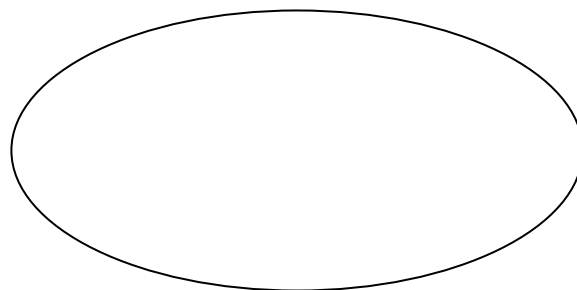
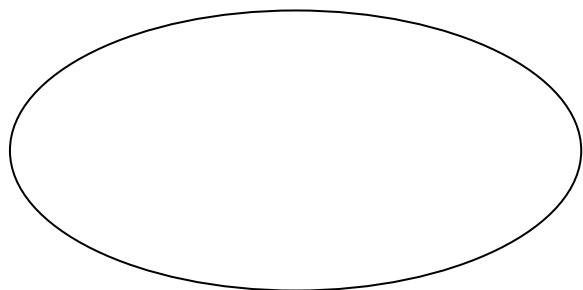

$$\square \div \square = \square$$

こたえ _____

こたえを見つけるのは、かけざんです。

$$3 \times \square = 24$$

絵でたしかめましょう。



どらやきが21にあります。3人で同じ数ずつ分けると、1人分は何こになりますか。

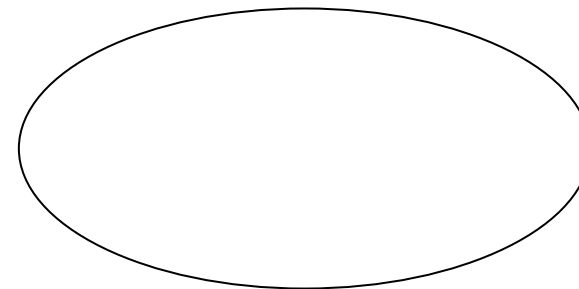
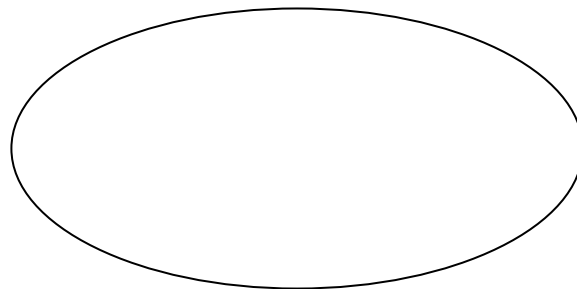
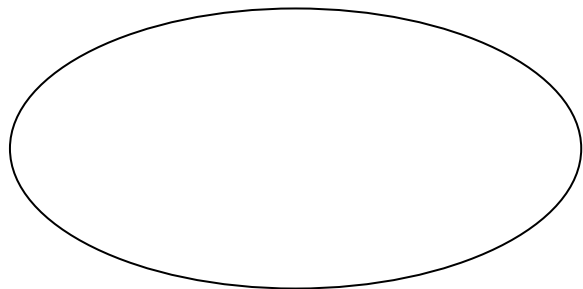

$$\square \div \square = \square$$

こたえ _____

こたえを見つけるのは、かけざんです。

$$3 \times \square = 21$$

絵でたしかめましょう。



どらやきが18こあります。3人で同じ数ずつ分けると、1人分は何こになりますか。

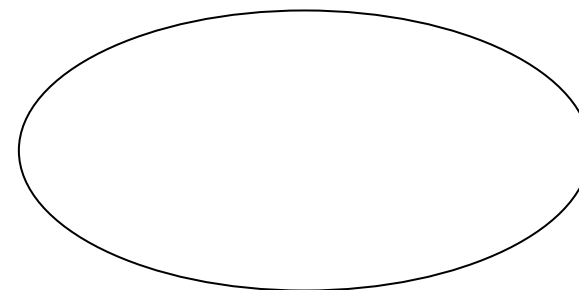
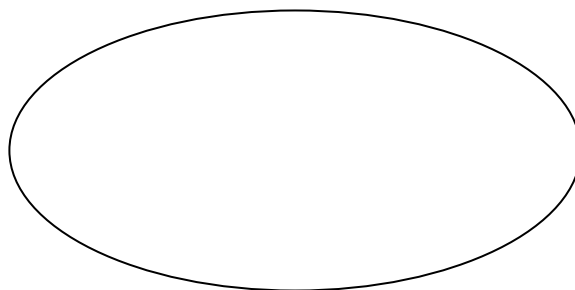
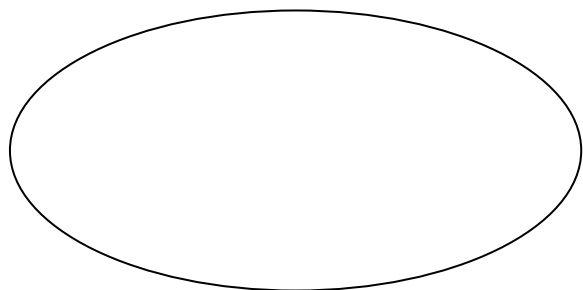
$$\square \div \square = \square$$

こたえ

こたえをみつけるのは、かけざんです。

$$3 \times \square = 18$$

絵でたしかめましょう。



どらやきが15こあります。3人で同じ数ずつ分けると、1人分は何こになりますか。

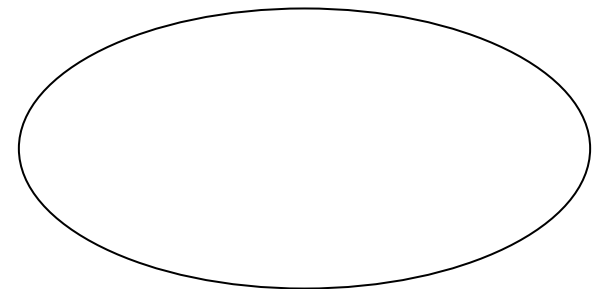
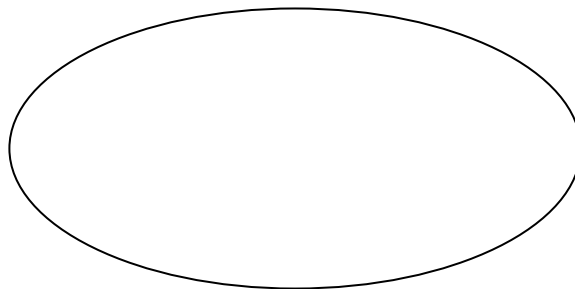
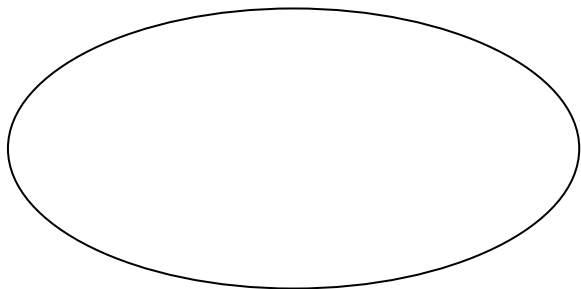
$$\square \div \square = \square$$

こたえ

こたえをみつけるのは、かけざんです。

$$3 \times \square = 15$$

絵でたしかめましょう。



どらやきが12こあります。3人で同じ数ずつ分けると、1人分は何こになりますか。

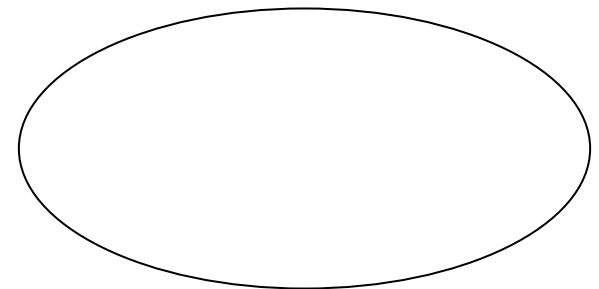
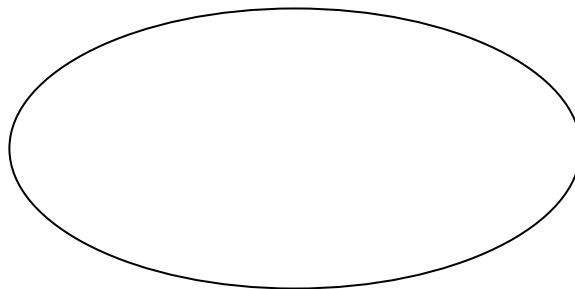
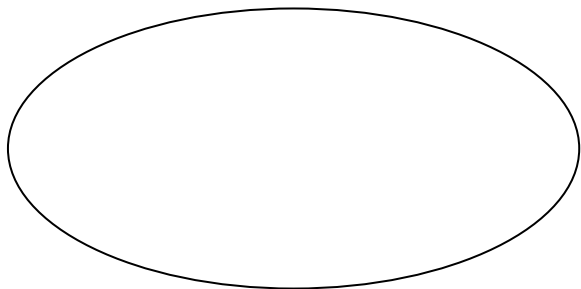
$$\square \div \square = \square$$

こたえ

こたえをみつけるのは、かけざんです。

$$3 \times \square = 12$$

絵でたしかめましょう。



どらやきが9こあります。3人で同じ数ずつ分けると、1人分は何こになりますか。

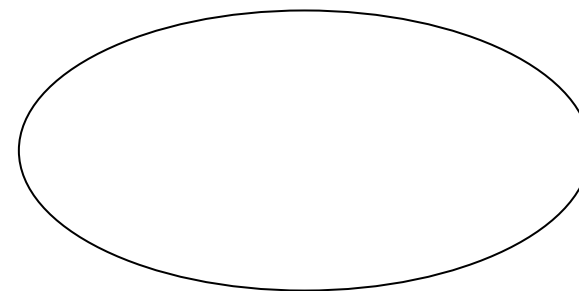
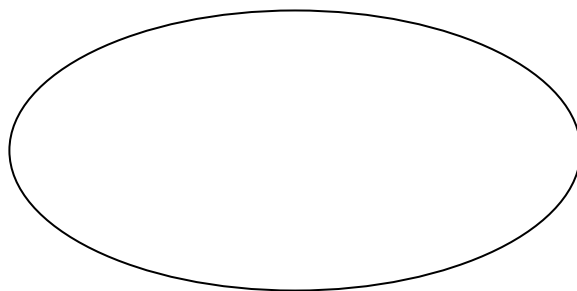
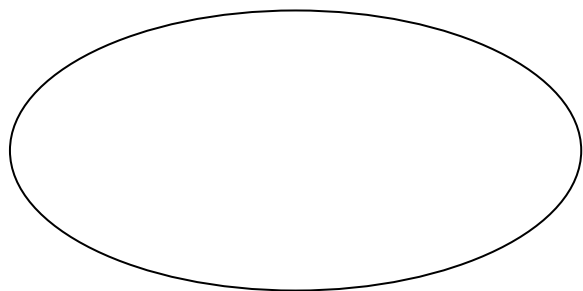
$$\square \div \square = \square$$

こたえ

こたえをみつけるのは、かけざんです。

$$3 \times \square = 9$$

絵でたしかめましょう。



どらやきが6こあります。3人で同じ数ずつ分けると、1人分は何こになりますか。

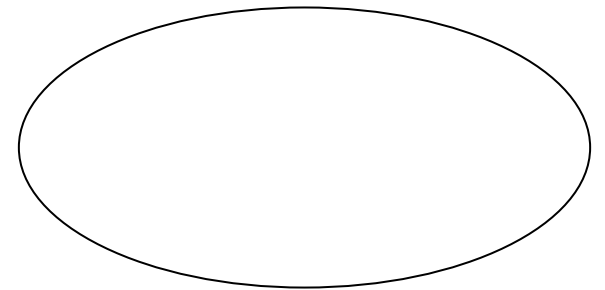
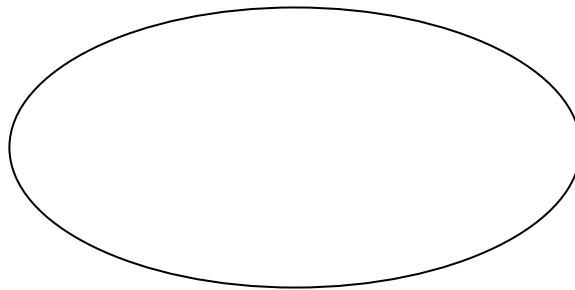
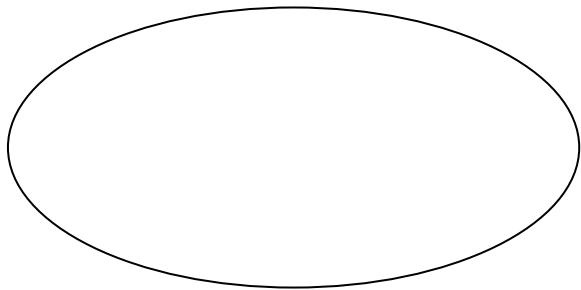
$$\square \div \square = \square$$

こたえ

こたえをみつけるのは、かけざんです。

$$3 \times \square = 6$$

^え絵でたしかめましょう。



どらやきが3こあります。3人で同じ数ずつ分けると、1人分は何こになりますか。

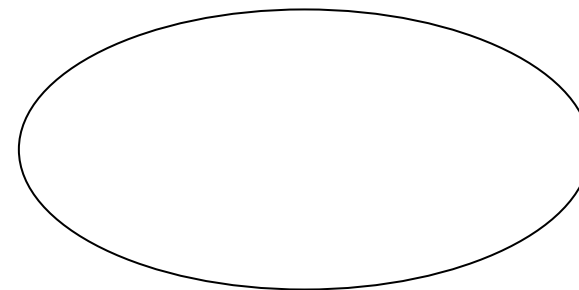
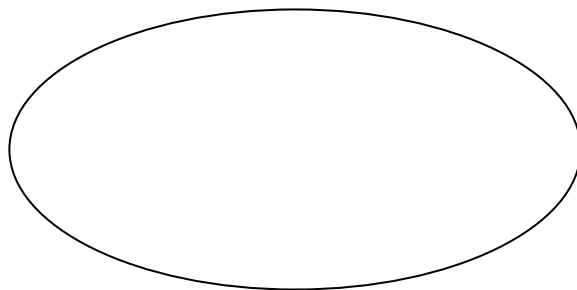
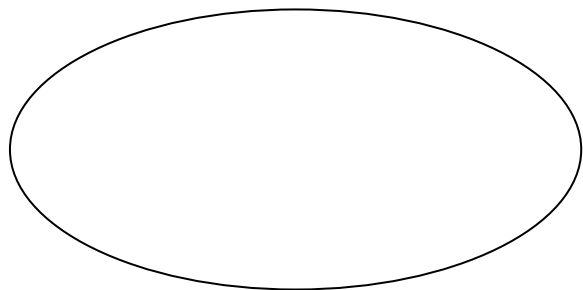
$$\square \div \square = \square$$

こたえ

こたえをみつけるのは、かけざんです。

$$3 \times \square = 3$$

絵でたしかめましょう。



どらやきが0こあります。3人で同じ数ずつ分けると、1人分は何こになりますか。

$$\square \div \square = \square$$

こたえ

こたえをみつけるのは、かけざんです。

$$3 \times \square = 0$$

絵でたしかめましょう。

