

1

どの部分でしょう ぶぶん

ねん くみ なまえ

右の写真は左のどの部分でしょうか？カタカナと数字で答えましょう みぎ しゃしん ひだり ぶぶん すうじ こた

ア

イ

1



2



こた
答え

カタカナ

すうじ
数字

2

どの部分でしょう

ねん くみ なまえ

みぎ しゃしん ひだり ぶぶん すうじ こた
右の写真は左のどの部分でしょうか？カタカナと数字で答えましょう




こた
答え
カタカナ
すうじ
数字

3

どの部分でしょう ぶぶん

ねん くみ なまえ

右の写真は左のどの部分でしょう？カタカナと数字で答えましょう みぎ しゃしん ひだり ぶぶん すうじ こた




こた 答え
カタカナ 数字 すうじ

4

どの部分でしょう

ねん くみ なまえ

みぎ しゃしん ひだり ぶぶん
 右の写真は左のどの部分でしょう？カタカナと数字で答えましょう




こた
 答え
 カタカナ
 すうじ
 数字

5

どの部分でしょう

ねん くみ なまえ

みぎ しゃしん ひだり ぶぶん
 ● 右の写真は左のどの部分でしょうか？カタカナと数字で答えましょう



こた
 答え
 カタカナ
 すうじ
 数字

6

どの部分でしょう

ねん くみ なまえ

右の写真は左のどの部分でしょうか？カタカナと数字で答えましょう



こた
答え
カタカナ
すうじ
数字

7

どの部分でしょう

ねん くみ なまえ

右の写真は左のどの部分でしょう？カタカナと数字で答えましょう




こた 答え
カタカナ 数字

8

ぶぶん
どの部分でしょう

ねん くみ なまえ

みぎ しゃしん ひだり ぶぶん すうじ こた
右の写真は左のどの部分でしょう？カタカナと数字で答えましょう




こた
答え
カタカナ
すうじ
数字

9

どの部分でしょう

ねん くみ なまえ

右の写真は左のどの部分でしょう？カタカナと数字で答えましょう



こた 答え
カタカナ 数字