

9

おも
重 さくらべ 2

なまえ

●てんびんばかりの皿の左右にそれぞれのせると、はかりは、どのような状態になりますか。正しいかたおき方の（ ）に○を書きましょう。




【問題1】




せんたくかごのみ




せんたくかごとせんたくもの



【問題2】



ブロックに2g 4こ



ブロックに2g 2こ

