


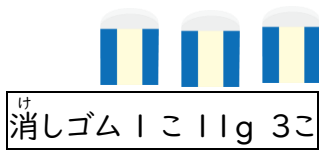


おも
重 さくらべ 2

なまえ

●てんびんばかりの皿の左右にそれぞれのせると、はかりは、どのような状態になりますか。正しいかたおき方の（ ）に○を書きましょう。

【問題1】



【問題2】



か
買い物かばん 70g 野菜など



か
買い物かばん 70gのみ

