

4

おも
重 さくらべ 2

なまえ

●てんびんばかりの皿の左右にそれぞれのせると、はかりは、どのような状態になりますか。正しいかたおき方の（ ）に○を書きましょう。

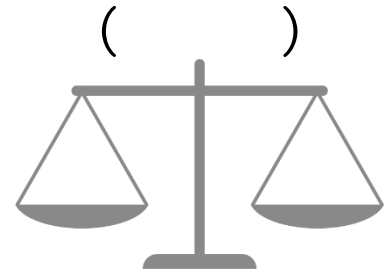


【問題1】



ブロッコリー 1こ 250g




キウイ 1こ 100g 3こ



【問題2】



ハンドベル 1こ 100g 2こ



タンバリン 1こ 300g

