

1

おも  
重 さくらべ 2

なまえ

●てんびんばかりの皿の左右にそれぞれのせると、はかりは、どのような状態になりますか。正しいかたおき方の（ ）に○を書きましょう。

もんだい  
【問題1】



かき 1こ 200g



りんご 1こ 300g

( )



( )




( )



もんだい  
【問題2】



ぶどう 1ふさ 500g



とうもろこし 1本 350g

( )



( )



( )




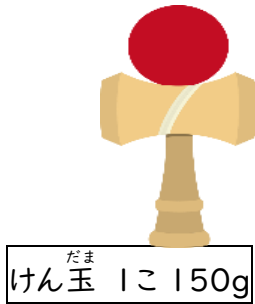
2

おも  
重 さくらべ 2

なまえ

●てんびんばかりの皿の左右にそれぞれのせると、はかりは、どのような状態になりますか。正しいかたおき方の（ ）に○を書きましょう。

もんだい  
【問題1】



もんだい  
【問題2】



3

おも  
重 さくらべ 2

なまえ

●てんびんばかりの皿の左右にそれぞれのせると、はかりは、どのような状態になりますか。正しいかたおき方の（ ）に○を書きましょう。

もんだい  
【問題1】



カスタネット 1こ33g



リコーダー 1本100g

( )




( )



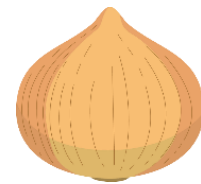
( )



もんだい  
【問題2】



トマト 1こ200g



たま  
玉ねぎ 1こ200g

( )



( )



( )



4

おも  
重 さくらべ 2

なまえ

●てんびんばかりの皿の左右にそれぞれのせると、はかりは、どのような状態になりますか。正しいかたおき方の（ ）に○を書きましょう。

【問題1】



ブロッコリー 1こ 250g



キウイ 1こ 100g 3こ

( )



( )




( )



【問題2】



ハンドベル 1こ 100g 2こ



タンバリン 1こ 300g

( )



( )



( )



5

おも  
重 さくらべ 2

なまえ

●てんびんばかりの皿の左右にそれぞれのせると、はかりは、どのような状態になりますか。正しいかたおき方の（ ）に○を書きましょう。

もんだい  
【問題1】



もんだい  
【問題2】




6

おも  
重 さくらべ 2

なまえ

●てんびんばかりの皿の左右にそれぞれのせると、はかりは、どのような状態になりますか。正しいかたおき方の（ ）に○を書きましょう。

もんだい  
【問題1】



アンパン1こ 100g



クロワッサン1こ 30g 3こ

( )



( )




( )



もんだい  
【問題2】



いちご1こ 20g 4こ



レモン1こ 100g

( )



( )



( )



7

おも  
重 さくらべ 2

なまえ

●てんびんばかりの皿の左右にそれぞれのせると、はかりは、どのような状態になりますか。正しいかたおき方の（ ）に○を書きましょう。

もんだい  
【問題1】



たこやき 1こ 20g 3こ



たいやき 1こ 80g

( )



( )



( )



もんだい  
【問題2】



えびの天ぷら 1本 30g 2本



えびフライ 1本 50g

( )



( )



( )



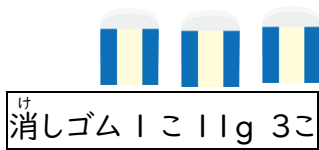


おも  
重 さくらべ 2

なまえ

●てんびんばかりの皿の左右にそれぞれのせると、はかりは、どのような状態になりますか。正しいかたおき方の（ ）に○を書きましょう。

【問題1】




【問題2】



か  
買い物かばん 70g 野菜など



か  
買い物かばん 70gのみ





おも  
重 さくらべ 2

なまえ

●てんびんばかりの皿の左右にそれぞれのせると、はかりは、どのような状態になりますか。正しいかたおき方の（ ）に○を書きましょう。




【問題1】




せんたくかごのみ




せんたくかごとせんたく物



【問題2】



ブロックに2g 4こ



ブロックに2g 2こ

