








た
足りない
かず
数さがし

ねん くみ
なまえ

kyozaisupport.com

1 5 2 4 7 6 3

【問題】 上と下の数字を見比べて、下に足りない数字にマルをつけましょう。



2





た
足りない
かず
数さがし

ねん くみ
なまえ

kyozaisupport.com

3 7 1 9 5 2 4

【問題】 上と下の数字を見比べて、下に足りない数字にマルをつけましょう。



3






た
足りない
かず
数さがし

ねん くみ
なまえ

kyozaisupport.com

6 5 1 2 3 8 9

【問題】 上と下の数字を見比べて、下に足りない数字にマルをつけましょう。



4






た
足りない
かず
数さがし

ねん くみ
なまえ

kyozaisupport.com

5 2 3 8 9 1 4 6

【問題】 上と下の数字を見比べて、下に足りない数字にマルをつけましょう。



5

た
足りない
かず
数さがし

ねん くみ
なまえ

kyozaisupport.com

7 5 4 2 1 8 9 6

【問題】 上と下の数字を見比べて、下に足りない数字にマルをつけましょう。

4

1

5

7

6

2

8

6






た
足りない
かず
数さがし

ねん くみ
なまえ

kyozaisupport.com

6 8 4 3 2 9 7 5

【問題】 上と下の数字を見比べて、下に足りない数字にマルをつけましょう。



7

た
足りない
かず
数さがし

ねん くみ
なまえ

kyozaisupport.com

7 8 6 2 3 4 1 9

【問題】 上と下の数字を見比べて、下に足りない数字にマルをつけましょう。

2

3

8

7

9

1

6

8

た
足りない
かず
数さがし

ねん くみ
なまえ

kyozaisupport.com

6 9 8 5 3 1 2 4

【問題】 上と下の数字を見比べて、下に足りない数字にマルをつけましょう。

2

6

3

1

9

5

4

9

た
足りない
かず
数さがし

ねん くみ

なまえ

kyozaisupport.com

1 4 2 9 8 7 6 5

【問題】 上と下の数字を見比べて、下に足りない数字にマルをつけましょう。

9

6

1

5

4

8

2

10

た
足りない
かず
数さがし

ねん くみ
なまえ

kyozaisupport.com

11 14 8 9 4 3

【問題】 上と下の数字を見比べて、下に足りない数字にマルをつけましょう。

11

3

14

9

8



た
足りない
かず
数さがし




ねん くみ

なまえ

kyozaisupport.com

5 13 6 7 19 1

【問題】 上と下の数字を見比べて、下に足りない数字にマルをつけましょう。



12

た
足りない
かず
数さがし

ねん くみ

なまえ

kyozaisupport.com

3 4 18 9 5 16

【問題】 上と下の数字を見比べて、下に足りない数字にマルをつけましょう。

5

3

18

9

4