



1

かぞえる

ねん くみ なまえ

【問題】 もんだい 右側みぎがわの赤いマスあかと同じ絵おなえや記号きごうや文字もじの数をかぞえてかず□に書かきましょう。




かず
の数

こたえ




こ



かず
の数

こたえ



こ

かかった時間じかん



ぶん
分





びょう
秒

2

かぞえる


ねん くみ なまえ

【問題】 もんだい 右側の赤いマスと同じ絵や記号や文字の数をかぞえて□に書きましょう。
みぎがわ あか おなえ きごう もじ かず か





かず
の数

こたえ




こ



かず
の数

こたえ



こ

かかった時間 じかん



ぶん
分



びょう
秒

3

かぞえる

ねん くみ なまえ

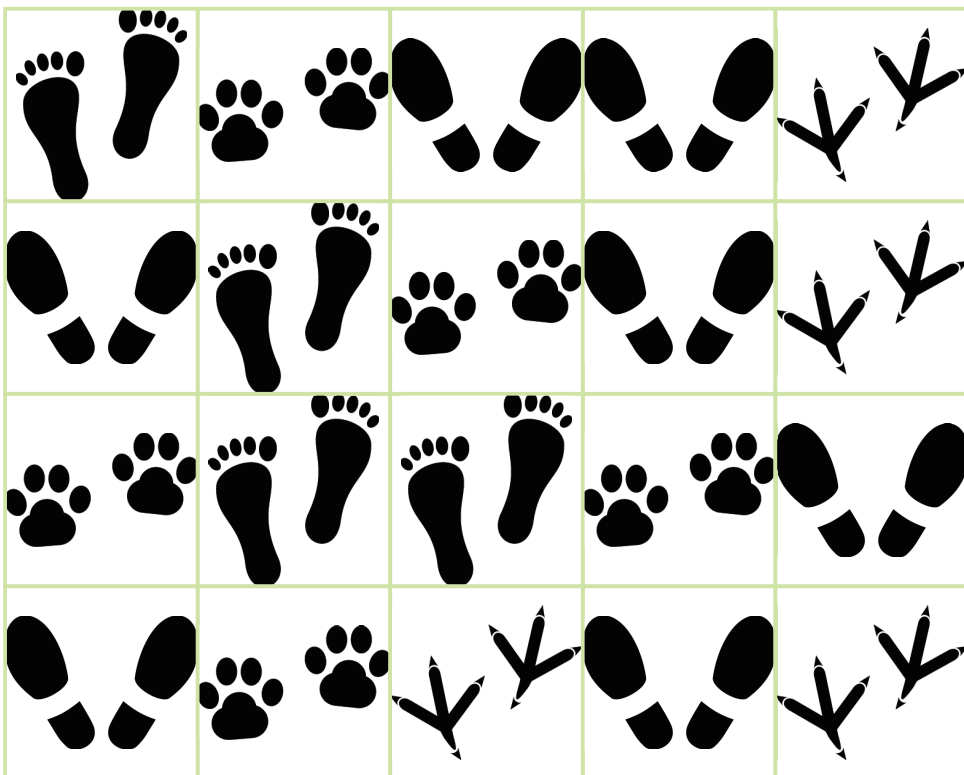
【問題】 もんだい 右側の赤いマスと同じ絵や記号や文字の数をかぞえて□に書きましょう。
みぎがわ あか おなえ きごう もじ かず か



かず
の数

こたえ

こ



かず
の数

こたえ

こ

かかった時間 じかん

ぶん
分


びょう
秒

4

かぞえる

ねん くみ なまえ

【問題】 もんだい 右側の赤いマスと同じ絵や記号や文字の数をかぞえて□に書きましょう。
みぎがわ あか おなえ きごう もじ かず か





か
ず
の
数

こたえ




こ



か
ず
の
数

こたえ



こ

かかった時間 じかん



ふん
分





びょう
秒

5

かぞえる

ねん くみ なまえ

【問題】 もんだい 右側の赤いマスと同じ絵や記号や文字の数をかぞえて□に書きましょう。
みぎがわ あか おなえ きごう もじ かず か





かず
の数

こたえ



こ



かず
の数

こたえ



こ

かかった時間 じかん



ぶん
分





びょう
秒

6


かぞえる

ねん くみ なまえ



【問題】 もんだい 右側の赤いマスと同じ絵や記号や文字の数をかぞえて□に書きましょう。
みぎがわ あか おなえ きごう もじ かず か

かず
の数


こたえ



こ

かず
の数

こたえ



こ

かかった時間 じかんぶん
分びょう
秒

【問題】 もんだい 右側の赤いマスと同じ絵や記号や文字の数をかぞえて□に書きましょう。
みぎがわ あか おなえ きごう もじ かず か

| | | | | |
|---|---|---|---|---|
| + | ! | ? | ? | = |
| = | ! | + | + | - |
| - | ? | ? | # | # |
| ! | ? | + | ! | ? |



かず
の数

こたえ



こ

| | | | | |
|---|---|---|---|---|
| あ | か | さ | た | な |
| あ | あ | な | た | あ |
| か | な | か | か | た |
| か | あ | あ | か | あ |



かず
の数

こたえ



こ

かかった時間 じかん



ぶん
分



びょう
秒

8

かぞえる

ねん くみ なまえ

【問題】 もんだい 右側の赤いマスと同じ絵や記号や文字の数をかぞえて□に書きましょう。
みぎがわ あか おなえ きごう もじ かず か

| | | | | |
|---|---|---|---|---|
| A | A | A | A | A |
| A | A | A | A | A |
| A | A | A | A | A |
| A | A | A | A | A |



かず
の数

こたえ

こ

| | | | | |
|---|---|---|---|---|
| キ | マ | ト | フ | キ |
| ト | マ | ト | キ | ヌ |
| フ | ト | ヌ | マ | マ |
| ヌ | フ | キ | ヌ | ト |



かず
の数

こたえ

こ

かかった時間 じかん

ぶん
分

びょう
秒

9

かぞえる

ねん くみ なまえ

【問題】 もんだい 右側の赤いマスと同じ絵や記号や文字の数をかぞえて□に書きましょう。
みぎがわ あか おなえ きごう もじ かず か

| | | | | |
|---|---|---|---|---|
| 赤 | 赤 | 赤 | 青 | 青 |
| 青 | 黄 | 青 | 緑 | 緑 |
| 青 | 黄 | 緑 | 青 | 黄 |
| 赤 | 緑 | 黄 | 青 | 赤 |

青

かず
の数

こたえ

□

こ

| | | | | |
|---|---|---|---|---|
| パ | フ | ポ | ハ | プ |
| ブ | ハ | ポ | ボ | ブ |
| パ | ハ | プ | ブ | フ |
| ホ | ボ | プ | バ | ハ |

ハ

かず
の数

こたえ

□

こ

かかった時間 じかん□ぶん
分□びょう
秒

かぞえる

ねん くみ なまえ

【問題】 もんだい 右側の赤いマスと同じ絵や記号や文字の数をかぞえて□に書きましょう。
みぎがわ あか おな え きごう もじ かず か

| | | | | |
|---|---|---|---|---|
| あ | お | ぬ | め | の |
| の | あ | あ | お | の |
| め | め | の | の | あ |
| お | あ | め | ぬ | ぬ |



かず
の数

こたえ



こ

| | | | | |
|---|---|---|---|---|
| ワ | ラ | ヲ | ウ | フ |
| フ | ラ | ウ | ヲ | ヲ |
| フ | ヲ | ワ | ラ | ラ |
| ワ | ウ | ラ | フ | ヲ |



かず
の数

こたえ



こ


かかった時間 じかん

ぶん
分

びょう
秒

【問題】 もんだい 右側みぎがわの赤いマスあかと同じ絵おなえや記号きごうや文字もじの数をかぞえてかず□に書かきましょう。

| | | | | |
|---|---|---|---|---|
| 一 | 三 | 二 | 五 | 四 |
| 四 | 三 | 一 | 一 | 二 |
| 五 | 五 | 四 | 四 | 一 |
| 二 | 四 | 五 | 三 | 二 |



かず
の数

こたえ



こ

| | | | | |
|---|---|---|---|---|
| 5 | 4 | 2 | 5 | 1 |
| 2 | 1 | 3 | 3 | 4 |
| 5 | 2 | 4 | 1 | 3 |
| 1 | 4 | 5 | 2 | 5 |



かず
の数

こたえ



こ

かかった時間じかん



ふん



びょう
秒

【問題】 もんだい 右側の赤いマスと同じ絵や記号や文字の数をかぞえて□に書きましょう。
みぎがわ あか おなえ きごう もじ かず か

| | | | | |
|---|---|---|---|---|
| 3 | + | 2 | = | 5 |
| 5 | - | 1 | = | 4 |
| 4 | - | 3 | = | 1 |
| 1 | + | 2 | = | 3 |

4

かず
の数

こたえ

□

こ

| | | | | |
|---|---|---|---|---|
| B | B | D | P | R |
| R | D | B | P | D |
| R | D | B | P | B |
| P | B | R | D | D |

B

かず
の数

こたえ

□

こ

かかった時間

□

ぶん
分

□

びょう
秒