


夏休みの プリント



ねん くみ なまえ



なつやす

夏休みのプリント

1

月

日

【問題1】 ^{もんだい} 下の ^{した} □ ^{なか} の中は、ひらがなを ^{ひだり} 左 ^{みぎ} と右のピースに分けたものです。どのピースを ^く 組み ^あ 合わせたら ^{ただ} 正しいひらがなになりますか？ ^{せん} 線で ^{むす} 結びましょう。

【問題2】 ^{もんだい} ピースの文字を ^{もじ} ならべかえると、ある ^{ことば} 言葉になります。どんな ^{ことば} 言葉でしょうか。

ろうそく



なつやす

夏休みのプリント

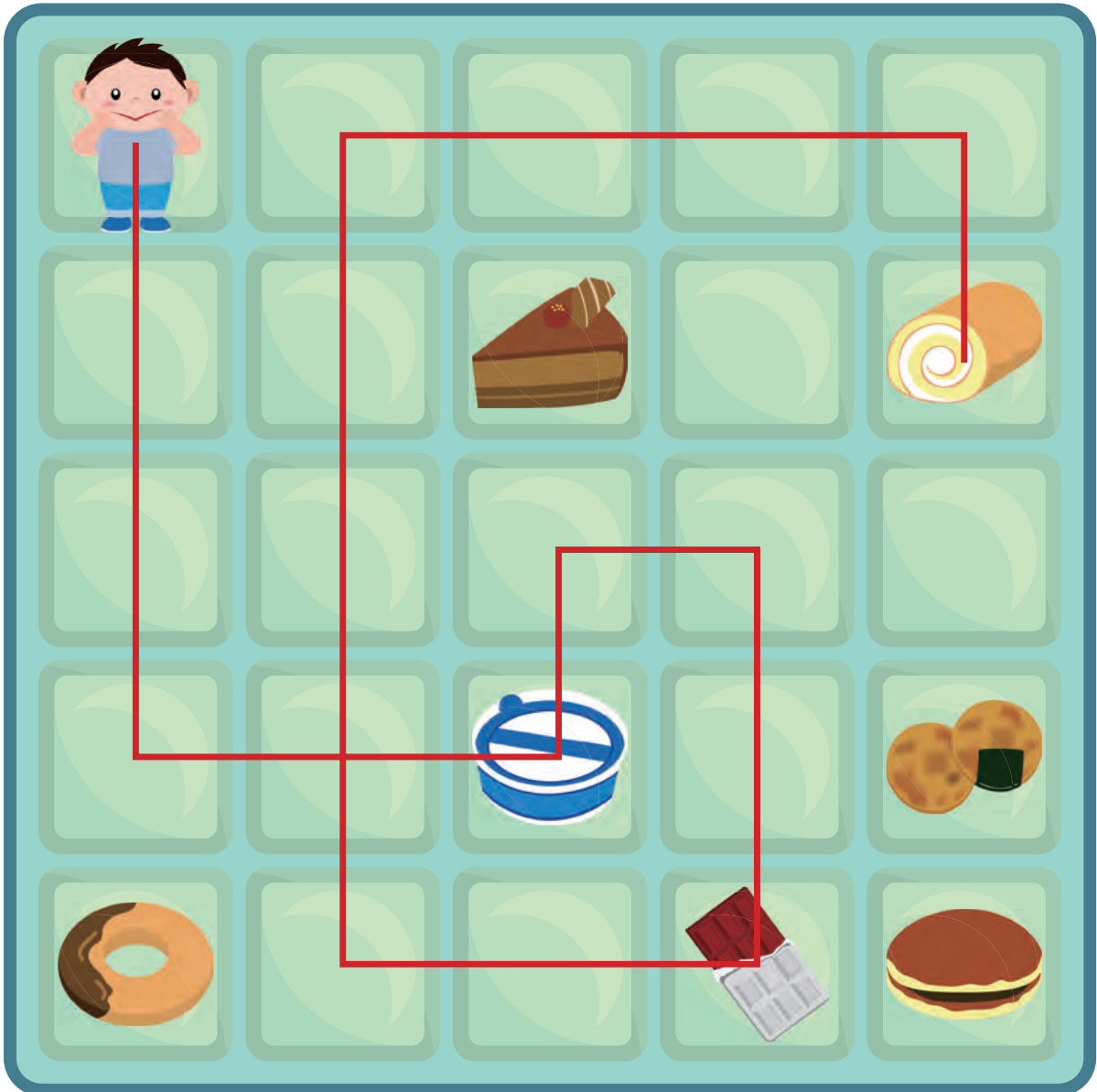
2

月

日

【問題】 もんだい 人が下の文のように動くと ひと どの順に した 通るでしょう。 ぶん うご じゅん とお ○をつけましょう。

した 下に3 みぎ 右に2 うへ 上に1 みぎ 右に1 した 下に2 ひだり 左に2 うへ 上に4 みぎ 右に3 した 下に1





もんだい
【問題】

おりがみをちょうど半分において、下の図のようにハサミで切ります。

おりがみを広げたらどんな形になるでしょうか。正しいものに○をつけましょう。

Diagram 1: A vertical blue strip with a notch on the left side. Below it are three blue squares with white shapes inside, each with a pair of parentheses above it.

- Option 1: A white hexagon. ()
- Option 2: A white octagon. ()
- Option 3: A white pentagon. (○)

Diagram 2: A vertical blue strip with a notch on the right side. Below it are three blue squares with white shapes inside, each with a pair of parentheses above it.

- Option 1: A white four-pointed star. (○)
- Option 2: A white five-pointed star. ()
- Option 3: A white six-pointed star. ()



なつやす

夏休みのプリント

4

月

日

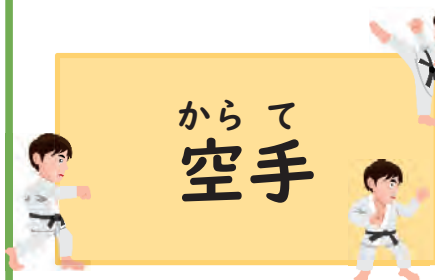
【問題】 もんだい 左が漢字の組み合わせた言葉(熟語)、右がその意味です。言葉と意味が合うように線で結びましょう。

みほん
見本

はやくち
早口

げざん
下山

からて
空手



やま
山をおりること

かくとうぎの
ひとつ

め
目のまえにある
てほん
よい手本

しゃべりかたが
はやいこと



なつやす

夏休みのプリント

5


月

日

【問題】 もんだい 右の絵を みぎ 1分間見て覚えて おぼ

ください。その後、あと 下の絵を見て、した



おな 同じものに○をつけましょう。



折り線



()

(○)



()

()





なつやす

夏休みのプリント

6


月

日

【問題】 (^{もんだい}) ^{はい} ^{ことば} ^{した} に入る言葉を下からえらびましょう。



ラクダが人^{ひと}を (**乗せる**)



さかな 魚を (**やく**)



かたを (**たたく**)



(**やさしい**) ^{じょうきゅうせい} 上級生

やく ^{おも} 重い たたく やさしい ^の 乗せる ^{とお} 遠い



なつやす

夏休みのプリント

7

月

日

に何をのせたら左と右が同じ重さになって、つりあいますか？食べ物の表の()に○をつけましょう。表の食べ物は、1つずつしかないと考えます。右のには、2 しゅるいの食べ物をのせます。

【問題1】

りんご 300g なし 400g



()

()

()

()



レタス 400g

かぼちゃ 1200g

とうもろこし 350g

もも 300g

【問題2】

さつまいも 250g かき 200g




()

()

()

()



りんご 300g

にんじん 150g

メロン 600g

トマト 200g



なつやす

夏休みのプリント

8

月

日

【問題】 もんだい イラスト下の () に、した 飲み物は○、の もの 料理には△を書きましょう。



オムレツ

(△)



うどん

(△)



かんごし

()



お茶 ちゃ

(○)



カレーライス

(△)



ジュース

(○)



ぎゅう
牛にゅう

(○)



ステーキ

(△)



なつやす

夏休みのプリント

9

月

日

【問題】 ^{もんだい}Aさんから ^み見たら、つくえ


^{うえ}の ^{もの}物は ^{じゅん}どういう ^{じゅん}順にならんで
いるでしょうか。

^{ただ}正しい ^{なら}並び方 ^{かた}の () に ^か〇
を書きましょう。


Aさん



()




()



()



()





もんだい
【問題】

ぶん よ もんだい こた しき こた か
文を読んで問題に答えましょう。(式と答えを書きましょう。)

あか はな ほん あお はな ほん あか はな あお はな
1. 赤い花が 5本 さいています。青い花は 2本 さいています。赤い花は、青い花よ
なんぼんおお
り何本多くさいていますか。



しき
(式) $5-2=3$

こた
(答え) 3本

2. りんごが 9こ、みかんが 8こ あります。数のちがいは、何こですか。

しき
(式) $9-8=1$

こた
(答え) 1こ

し かく さんかく し かく さんかく
3. 四角いブロックが 7こ、三角のブロックが 6こ あります。四角いブロックは、三角
のブロックとくらべて何こ多いですか。

しき
(式) $7-6=1$

こた
(答え) 1こ

ものがたり ほん が なん おお
4. 物語の本が 6さつ、まん画が 3さつ あります。どちらが何さつ多いですか。

しき
(式) $6-3=3$

こた
(答え) (物語) が (3) さつ多い