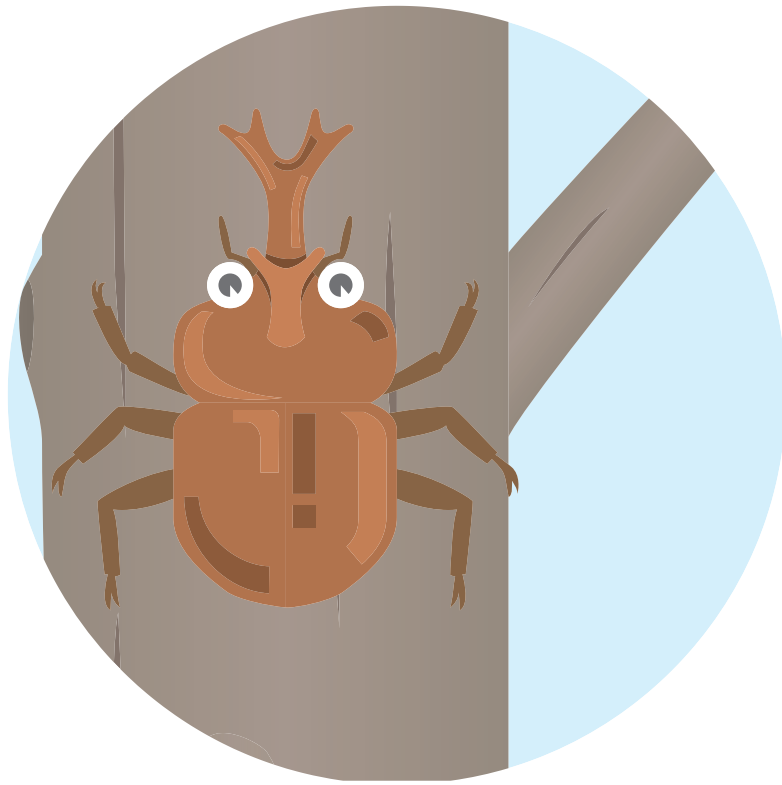



夏休みの プリント



ねん くみ なまえ



【問題1】 ^{もんだい} 下の ^{した} □ の ^{なか} 中は、ひらがなを ^{ひだり} 左 と ^{みぎ} 右 のピースに分けたものです。どのピースを ^く 組み ^あ 合わせたら ^{ただ} 正しいひらがなになりますか？ ^{せん} 線で ^{むす} 結びましょう。



【問題2】 ^{もんだい} ピースの ^{もじ} 文字をならべかえると、ある ^{ことば} 言葉になります。どんな ^{ことば} 言葉でしょうか。



なつやす

夏休みのプリント

2

月

日

【問題】 もんだい 人が下の文のように動くと ひと どの順に した 通るでしょう。 ぶん ○をつけましょう。 うご じゅん とお

した 下に3 みぎ 右に2 うへ 上に1 みぎ 右に1 した 下に2 ひだり 左に2 うへ 上に4 みぎ 右に3 した 下に1

① → →

② → →

③ → →

④ → →



なつやす

夏休みのプリント

3

月

日

もんだい 【問題】

● おりが紙をちょうど半分において、下の図のようにハサミで切ります。

おりが紙を広げたらどんな形になるでしょうか。正しいものに○をつけましょう。

() () ()

() () ()



なつやす

夏休みのプリント

4

月

日

【問題】 もんだい 左が漢字の組み合わせさった言葉(熟語)、右がその意味です。言葉と意味が合うように線で結びましょう。

みほん
見本

やま
山をおりること

はやくち
早口

かくとうぎの
ひとつ

げざん
下山

め
目のまえにある
てほん
よい手本

からて
空手

しゃべりかたが
はやいこと





なつやす

夏休みのプリント

5


月

日

【問題】 もんだい 右の絵を みぎ 1分間見て覚えて おぼ

ください。その後、あと 下の絵を見て、した



おな 同じものに○をつけましょう。



折り線



()

()



()

()





なつやす

夏休みのプリント

6


月

日

【問題】 (^{もんだい}) に入る言葉 ^{はい} を ^{ことば} 下から ^{した} えらびましょう。



ラクダが ^{ひと} 人を ()



^{さかな} 魚を ()



かたを ()



(^{じょうきゅうせい}) 上級生

やく ^{おも} 重い たたく やさしい ^の 乗せる ^{とお} 遠い



なつやす

夏休みのプリント

7

月

日

^{なに}に何をのせたら左と右が同じ重さになって、つりあいますか？^た食べ物^の表^の()に○をつけ
 けましょう。^{ひょう}表^の食べ物^は、1つずつしかないと^{かんが}考え^えます。右^のには、2 ^{しゅるい}しゅるい^の食べ物^をのせ
 ます。

【問題1】

りんご 300g なし 400g



() () () ()




レタス 400g かぼちゃ 1200g とうもろこし 350g もも 300g

【問題2】

さつまいも 250g かき 200g



() () () ()



りんご 300g にんじん 150g メロン 600g トマト 200g



【問題】 もんだい イラスト下の () に、した 飲み物は○、の もの 料理には△を書きましょう。



オムレツ

()



うどん

()



かんごし

()



お茶ちゃ

()



カレーライス

()



ジュース

()



ぎゅう
牛にゅう

()



ステーキ

()



なつやす

夏休みのプリント

9

月

日

【問題】^{もんだい}Aさんから^み見たら、つくえ

の^{うえ}上の物はどういう^{じゅん}順にならんで
いるでしょうか。


^{ただ}正しい^{なら}並び方^{かた}の()に○

を書きましょう。


Aさん



()




()



()



()





もんだい
【問題】

ぶん よ もんだい こた しき こた か
文を読んで問題に答えましょう。(式と答えを書きましょう。)

あか はな ほん あお はな ほん あか はな あお はな
1. 赤い花が 5本 さいています。青い花は 2本 さいています。赤い花は、青い花よ
なんぼんおお
り何本多くさいていますか。



しき
(式)

こた
(答え)

2. りんごが 9こ、みかんが 8こ あります。数のちがいは、何こですか。

しき
(式)

こた
(答え)

し かく さんかく し かく さんかく
3. 四角いブロックが 7こ、三角のブロックが 6こ あります。四角いブロックは、三角
のブロックとくらべて何こ多いですか。

しき
(式)

こた
(答え)

ものがたり ほん が なん おお
4. 物語の本が 6さつ、まん画が 3さつ あります。どちらが何さつ多いですか。

しき
(式)

こた (答え) () が () さつ多い