

1

ほうこう 方向ときより

なまえ

【問題】 もんだい 人が下の文のように ひと 動くとき した ぶん うご くと じゆん どの順に とお 通るでしょう。○をつけましょう。

うえ 上に3 みぎ 右に2 した 下に2



2

ほうこう 方向ときより

なまえ

【問題】 もんだい 人が下の文のように動くと ひと どの順に した 通るでしょう。 ぶん ○をつけましょう。 うご じゆん とお

ひだり 左に 2 うへ 上に 2 みぎ 右に 3 した 下に 2



① → →

② → →

③ → →

④ → →

3

ほうこう 方向ときより

なまえ

【問題】 もんだい 人が下の文のように動くと ひと どの順に した 通るでしょう。 ぶん ○をつけましょう。 うご じゅん とお

ひだり 左に2 した 下に3 みぎ 右に2 うへ 上に2 ひだり 左に3




4

ほうこう 方向ときより

なまえ

【問題】 もんだい 人が下の文のように動くと ひと どの順に通るでしょう。 した ぶん うご じゆん とお ○をつけましょう。

うえ 上に1 ひだり 左に1 した 下に2 みぎ 右に2 うえ 上に1 みぎ 右に1



5

ほうこう 方向ときより

なまえ

【問題】 もんだい 人が下の文のように動くと ひと どの順に した 通るでしょう。 ぶん ○をつけましょう。 うご じゆん とお

うえ 上に2 ひだり 左に2 した 下に3 みぎ 右に3 うえ 上に3 みぎ 右に1 した 下に4



① → →

② → →

③ → →

④ → →

6

ほうこう 方向ときより

なまえ

【問題】 もんだい 人が下の文のように動くと ひと どの順に通るでしょう。 した ぶん うご じゆん とお ○をつけましょう。

うえ 上に 2 ひだり 左に 3 した 下に 3 みぎ 右に 2 うえ 上に 2 ひだり 左に 1




7

ほうこう 方向ときより

なまえ

【問題】 もんだい 人が下の文のように動くと ひと どの順に通るでしょう。 した ぶん うご じゆん とお ○をつけましょう。

した 下に 3 みぎ 右に 2 うへ 上に 1 みぎ 右に 1 した 下に 2 ひだり 左に 2 うへ 上に 4 みぎ 右に 3 した 下に 1



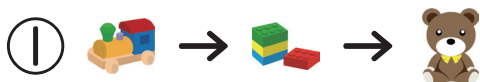
8

ほうこう 方向ときより

なまえ

【問題】 もんだい 人が下の文のように動くと ひと どの順に通るでしょう。 した ぶん ○をつけましょう。 うご じゆん とお

うえ ひだり した ひだり した みぎ うえ ひだり
上に2 左に2 下に2 左に1 下に1 右に4 上に2 左に2



9

ほうこう 方向ときより

なまえ

【問題】 もんだい 人が下の文のように動くと ひと どの順に通るでしょう。 した ぶん ○をつけましょう。 うご じゆん とお

うえ ひだり した ひだり うえ ひだり した ひだり した
上に3 左に1 下に2 左に1 上に3 左に1 下に2 左に1 下に2

