



1

きょうつう なに  
共通するものは何？

ねん くみ なまえ

みぎ ひだり おな え  
右と左に同じ絵がひとつあります。それを○でかこみましょう。




2

きょうつう なに  
共通するものは何？

ねん くみ なまえ

みぎ ひだり おな え  
右と左に同じ絵がひとつあります。それを○でかこみましょう。



3

きょうつう なに  
共通するものは何？

ねん くみ なまえ

みぎ ひだり おな え  
右と左に同じ絵がひとつあります。それを○でかこみましょう。



4

きょうつう なに  
共通するものは何？

ねん くみ なまえ

みぎ ひだり おな え  
右と左に同じ絵がふたつあります。それを○でかこみましょう。



5

きょうつう なに  
共通するものは何？

ねん くみ なまえ

みぎ ひだり おな え  
◆ 右と左に同じ絵がふたつあります。それを○でかこみましょう。



6

きょうつう なに  
共通するものは何？

ねん くみ なまえ

みぎ ひだり おな え  
右と左に同じ絵がふたつあります。それを○でかこみましょう。



7

きょうつう なに  
共通するものは何？

ねん くみ なまえ

みぎ ひだり おな え  
右と左に同じ絵がみっつあります。それを○でかこみましょう。



8

きょうつう なに  
共通するものは何？

ねん くみ なまえ

みぎ ひだり おな え  
右と左に同じ絵がみっつあります。それを○でかこみましょう。





9

きょうつう なに  
共通するものは何？

ねん くみ なまえ

みぎ ひだり おな え  
右と左に同じ絵がみっつあります。それを○でかこみましょう。

