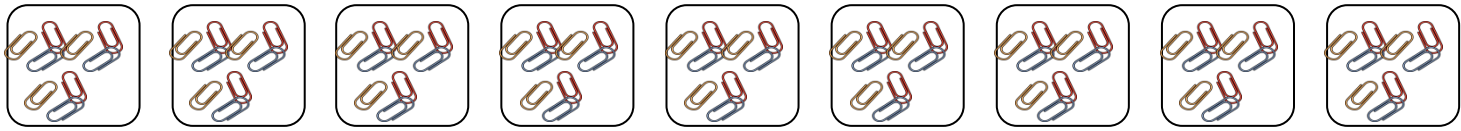


絵を見て、かけざんのしきをとこたえをかきましょう。

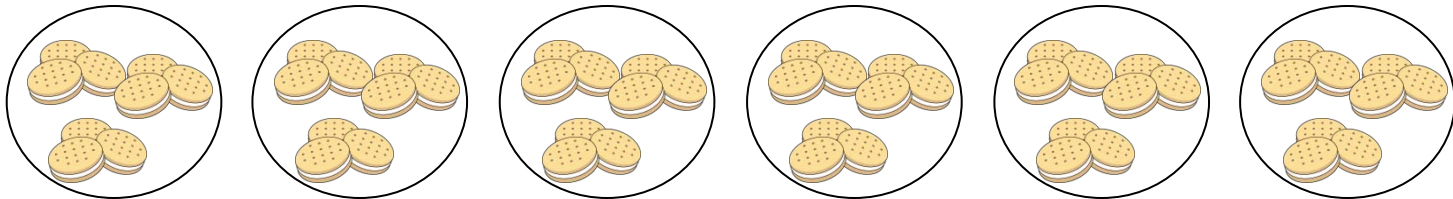
① 1つのケースにクリップが9こずつ入っています。ケースは、9こあります。クリップはぜんぶで何こありますか。



$$\square \times \square = \square$$

こたえ

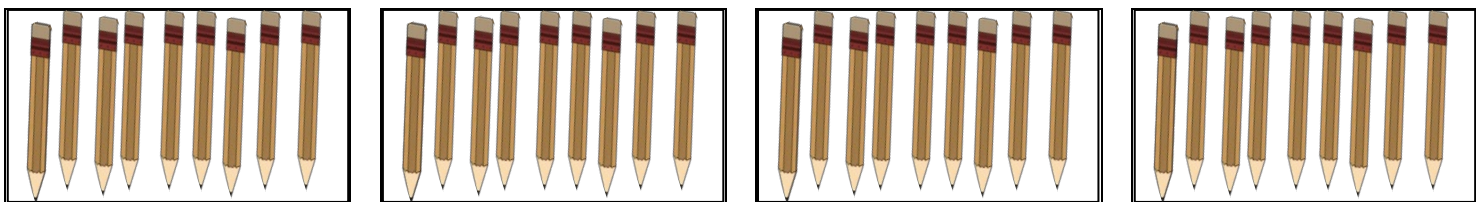
② ビスケットが1さらに9こずつの6さらがあります。ビスケットはぜんぶで何こですか。



$$\square \times \square = \square$$

こたえ

③ えんぴつが1はこに 9本ずつ入っています。4はこでは、えんぴつはぜんぶで何本ですか。



$$\square \times \square = \square$$

こたえ