


絵を見て、かけざんのしきをとこたえをかきましょう。

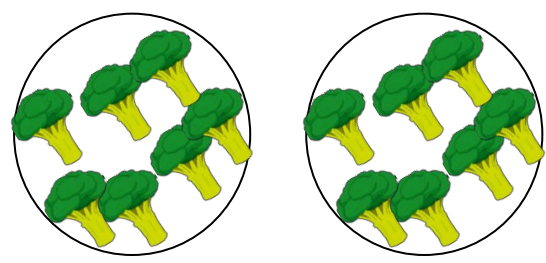
①ピザが1さらに7まいずつのったさらが5さらあります。ピザはぜんぶで何まいありますか。



$$\square \times \square = \square$$

こたえ


②ブロッコリーが1さらに7こずつのったさらが2さらがこあります。ブロッコリーはぜんぶで何こですか。



$$\square \times \square = \square$$

こたえ

③いちごが1さらに 7こずつ のっています。7さらでは いちごは 何こですか。



$$\square \times \square = \square$$

こたえ