


絵を見て、かけざんのしきをとこたえをかきましょう。


①りんごが1さらに4こずつのったさらに7さらあります。りんごはぜんぶで何こありますか。



□ × □ = □

こたえ


②いちごが1さらに4こずつのったさらに6さらあります。いちごはぜんぶで何こありますか。



□ × □ = □

こたえ

③おすしが1さらに4こずつのったさらに3さらあります。おすしはぜんぶで何こありますか。



□ × □ = □

こたえ