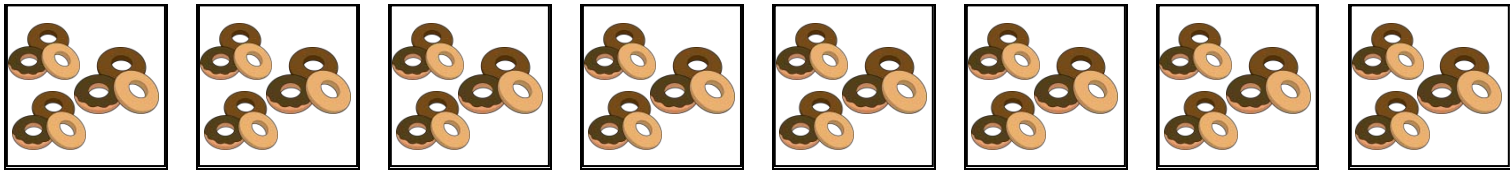


絵を見て、かけざんのしきをとこたえをかきましょう。

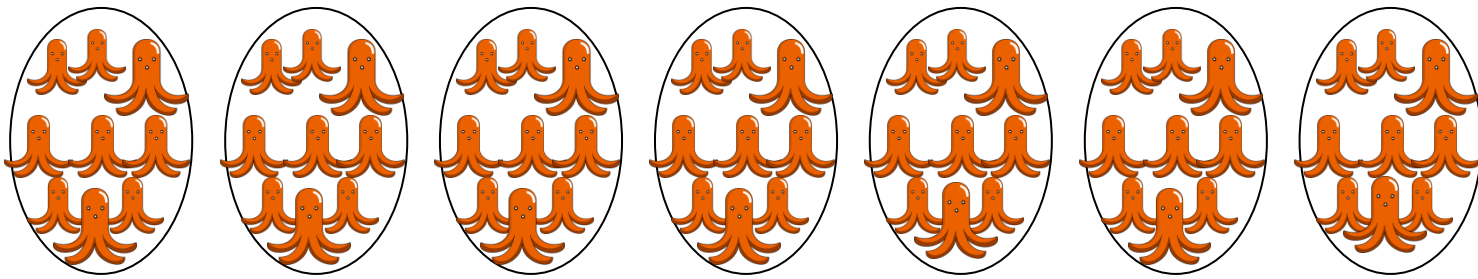
① 1つのはこにドーナツが9こずつ入っています。はこは、8はこあります。ドーナツはぜんぶで何こありますか。



$$\square \times \square = \square$$

こたえ

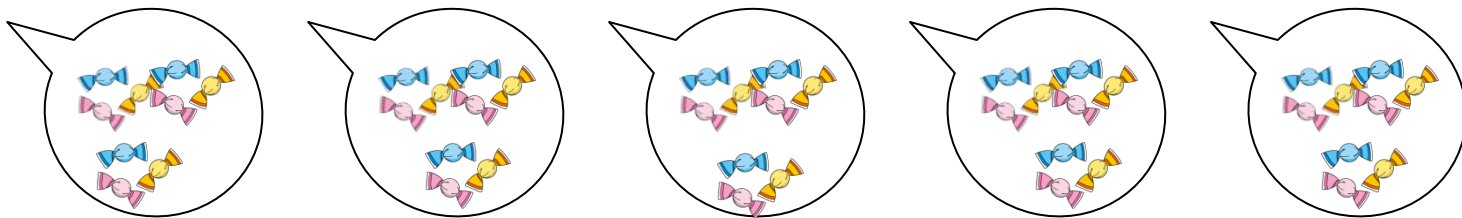
② ウィンナーが1さらに9こずつのったさらに7さらあります。ウィンナーはぜんぶで何こですか。



$$\square \times \square = \square$$

こたえ

③ キャンディが1ふくろに 9こずつ入っています。5ふくろあります。キャンディはぜんぶで何こですか。



$$\square \times \square = \square$$

こたえ