


絵を見て、かけざんのしきをとこたえをかきましょう。


①りんごが1さらに5こずつの4さらがあります。りんごはぜんぶで何こありますか。



$$\square \times \square = \square$$

こたえ

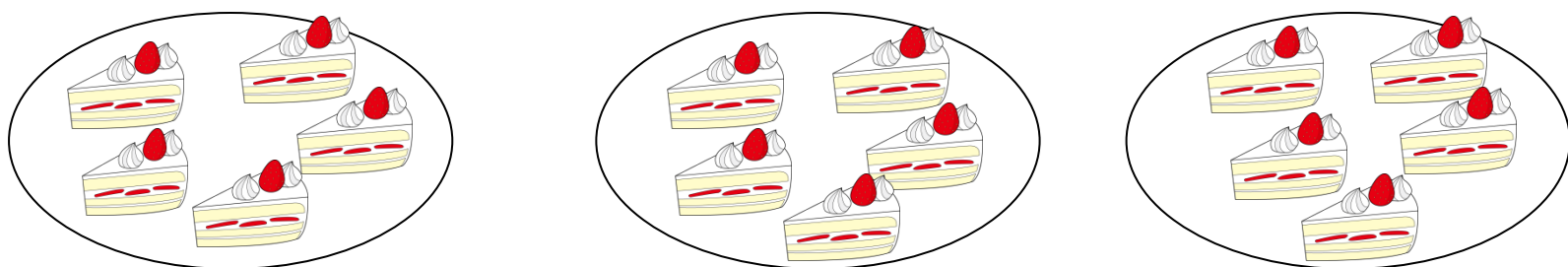
②いちごが1さらに5こずつの6さらがあります。いちごはぜんぶで何こありますか。



$$\square \times \square = \square$$

こたえ

③ケーキが1さらに5こずつの3さらがあります。ケーキはぜんぶで何こありますか。



$$\square \times \square = \square$$

こたえ