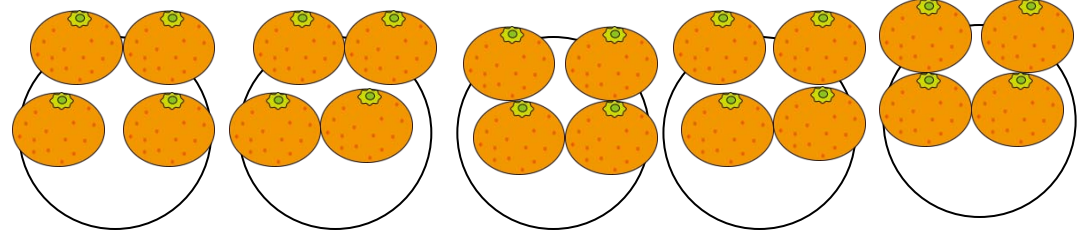


絵を見て、かけざんのしきをとこたえをかきましょう。


① みかんが1さらに4こずつのったさらが5さらあります。みかんはぜんぶで何こありますか。



□ × □ = □

こたえ


② 魚が1さらに4ひきずつのったさらが8さらあります。魚はぜんぶで何ひきのっていますか。



□ × □ = □

こたえ

③ 金魚が4ひきずつ入った水そうが4こあります。金魚はぜんぶで何ひきいますか。



□ × □ = □

こたえ