


絵を見て、かけざんのしきをとこたえをかきましょう。


①りんごが1さらに3こずつのたさらが6さらあります。りんごはぜんぶで何こありますか。



□ × □ = □

こたえ


②いちごが1さらに3こずつのたさらが5さらあります。いちごはぜんぶで何こありますか。



□ × □ = □

こたえ

③キャンディが1さらに3こずつのたさらが3さらあります。キャンディはぜんぶで何こありますか。



□ × □ = □

こたえ