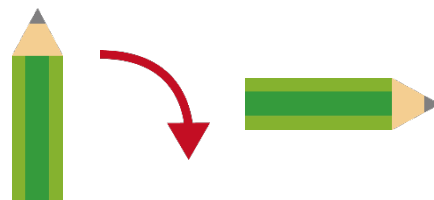


1

かいてん かたち
回転した形

なまえ

これは、えんぴつを 90度^{ど みぎ}右に 回転^{かいてん}したところ
です。



【問題】 左の絵を 90度^{ど みぎ}右に 回転^{かいてん}した 形^{かたち}に○をつけましょう。



()




()


()



()

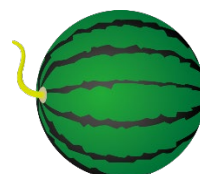


()



()

()



()

