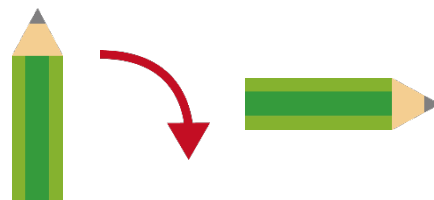


1

かいてん かたち
回転した形

なまえ

これは、えんぴつを 90度^{ど みぎ}右に 回転^{かいてん}したところ
です。



【問題】 左の絵を 90度^{ど みぎ}右に 回転^{かいてん}した 形^{かたち}に○をつけましょう。



()




()


()



()

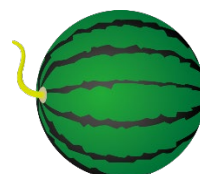


()


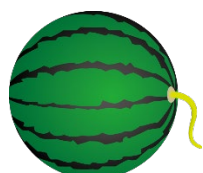


()

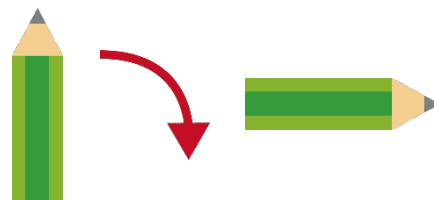
()



()



これは、えんぴつを 90度 右に 回転 したところ
 です。



【問題】 左の絵を 90度 右に 回転 した 形 に○をつけましょう。



()




()



()




()



()



()



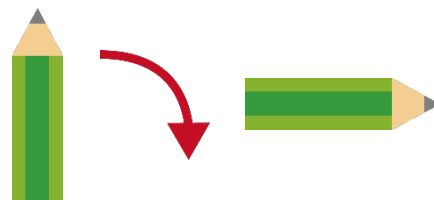
()



()



これは、えんぴつを 90度^{ど みぎ}右に^{かいてん}回転したところ
です。



【問題】 ^{もんだい} 左の^{ひだり} 絵^え を 90度^{ど みぎ}右に^{かいてん} 回転した^{かたち} 形に○をつけましょう。



()



()



()



()




()



()



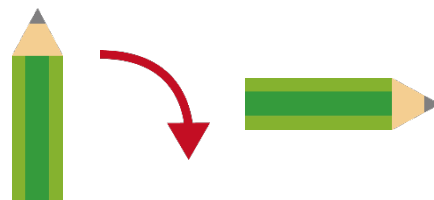
()



()



これは、えんぴつを 90度^{ど みぎ}右に^{かいてん}回転したところ
です。



【問題】^{もんだい} 左の^{ひだり}絵^えを 90度^{ど みぎ}右に^{かいてん}回転した^{かたち}形に○をつけましょう。



()



()




()



()




()



()



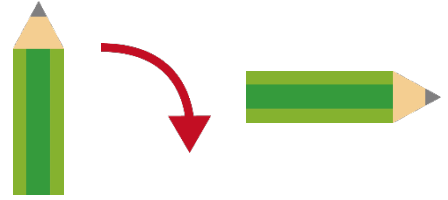
()




()



これは、えんぴつを 90度^{ど みぎ}右に^{かいてん}回転したところ
です。




【問題】^{もんだい} 左の^{ひだり}絵^えを 90度^{ど みぎ}右に^{かいてん}回転した^{かたち}形に○をつけましょう。



()

()



()

()



()

()

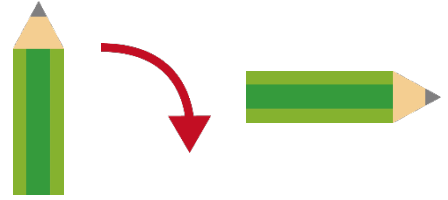


()

()



これは、えんぴつを 90度^{ど みぎ}右に^{かいてん}回転したところ
です。



【問題】^{もんだい} 左の^{ひだり}絵^えを 90度^{ど みぎ}右に^{かいてん}回転した^{かたち}形に○をつけましょう。



()



()

()



()



()



()

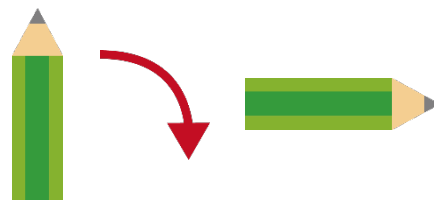
()



()




これは、えんぴつを 90度^{ど みぎ}右に^{かいてん}回転したところ
です。



【問題】^{もんだい} 左の^{ひだり}絵^えを 90度^{ど みぎ}右に^{かいてん}回転した^{かたち}形に○をつけましょう。




()




()




()



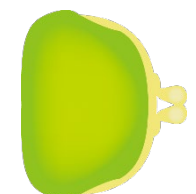
()




()



()



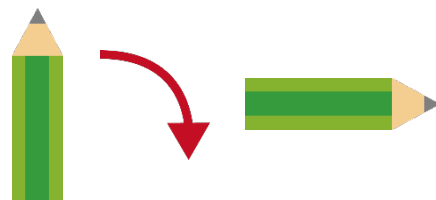
()



()



これは、えんぴつを 90度^{ど みぎ}右に^{かいてん}回転したところ
です。



【問題】 ^{もんだい}左の^{ひだり}絵^えを 90度^{ど みぎ}右に^{かいてん}回転した^{かたち}形に○をつけましょう。



()

()



()

()



()

()

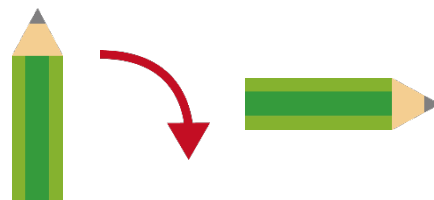


()

()



これは、えんぴつを 90度^{ど みぎ}右に^{かいてん}回転したところ
です。



【問題】^{もんだい} 左の^{ひだり}絵^えを 90度^{ど みぎ}右に^{かいてん}回転した^{かたち}形に○をつけましょう。

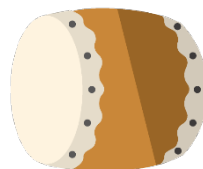


()




()

()



()



()



()

()



()

