

1

かもの 買い物クイズ2

なまえ



ぶん よ した もんだい こた
文を読んで下の問題に答えましょう。

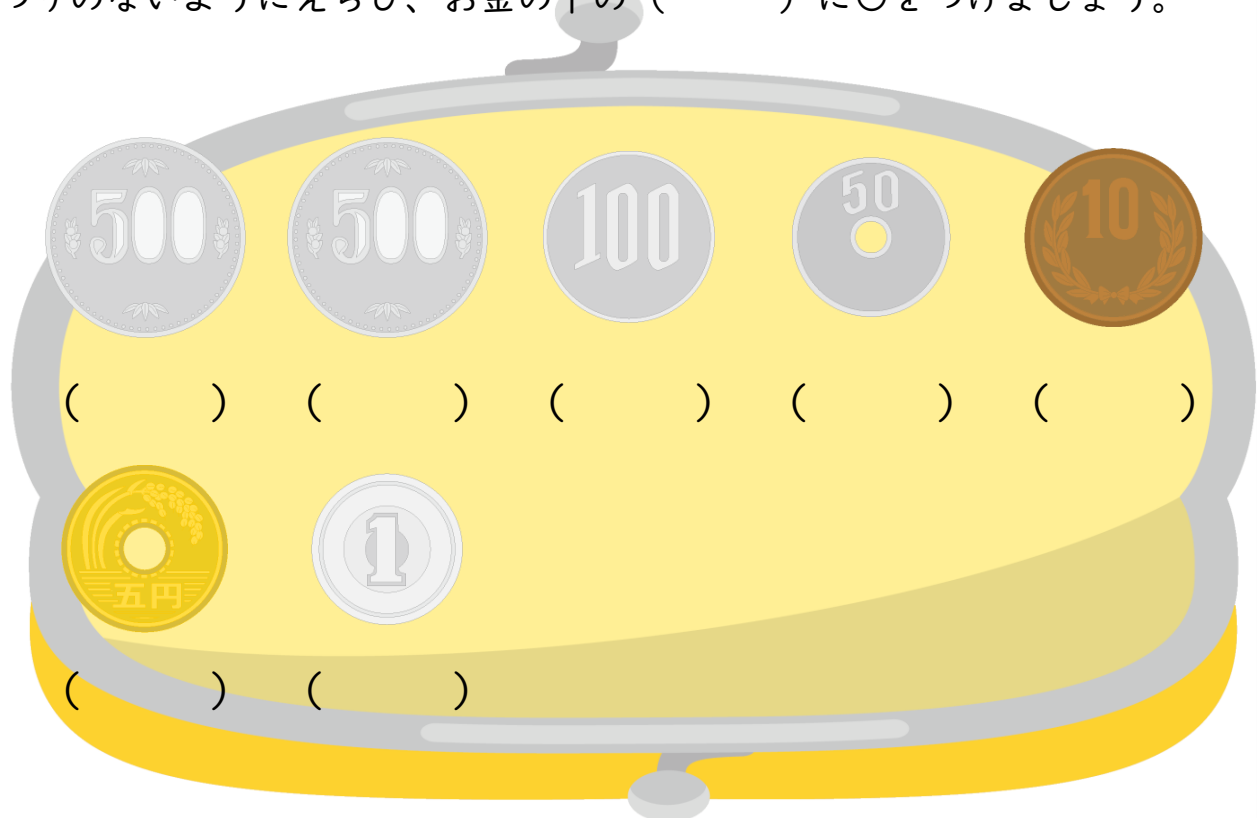
くつ した そく か おも そく えん てん そく えん
くつ下を3足買いたいと思います。3足1000円のA店と1足350円の
B店では、どちらの方がやすいですか。(おとくですか。)

もんだい しき こた か かんが
【問題1】式と答えを書いて考えてみましょう。

しき
(式)

こた
(答え)

もんだい ほう みせ か とき かね つか
【問題2】やすい方のお店で買う時、どのお金を使ったらいいでしょうか。お
つりのないようにえらび、お金の下の()に○をつけましょう。



2

かもの 買い物クイズ2

なまえ



ぶんよしたもんだいこた
文を読んで下の問題に答えましょう。


ハンカチを2まい買いたいと思います。2まい500円のA店と1まい300円のB店では、どちらの方がやすいですか。(おとくですか。)

もんだいしきこたかかんが
【問題1】式と答えを書いて考えてみましょう。

しき
(式)

こた
(答え)

もんだいほうみせかときかねつか
【問題2】やすい方のお店で買う時、どのお金を使ったらいいでしょうか。おつりのないようにえらび、お金の下の()に○をつけましょう。



3

か 物の 買い物クイズ 2

なまえ



ぶん よ した もんだい こた
文を読んで下の問題に答えましょう。

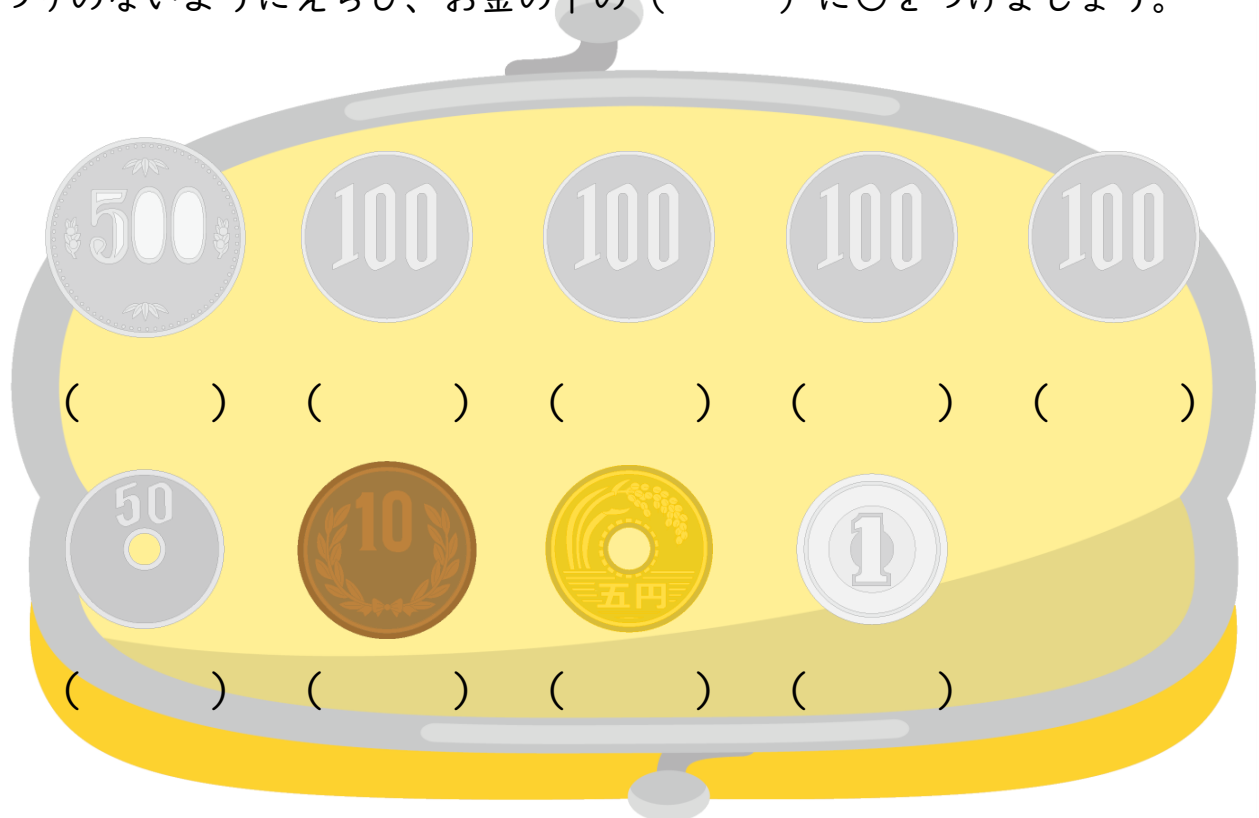
えんぴつを 5本買いたいと思います。5本で500円のA店と1本90円
のB店では、どちらの方がやすいですか。(おとくですか。)

もんだい しき こた か かんが
【問題1】式と答えを書いて考えてみましょう。

しき
(式)

こた
(答え)

もんだい ほう みせ か とき かね つか
【問題2】やすい方のお店で買う時、どのお金を使ったらいいでしょうか。お
つりのないようにえらび、お金の下の()に○をつけましょう。



4

かもの 買い物クイズ2

なまえ



ぶん よ した もんだい こた
文を読んで下の問題に答えましょう。

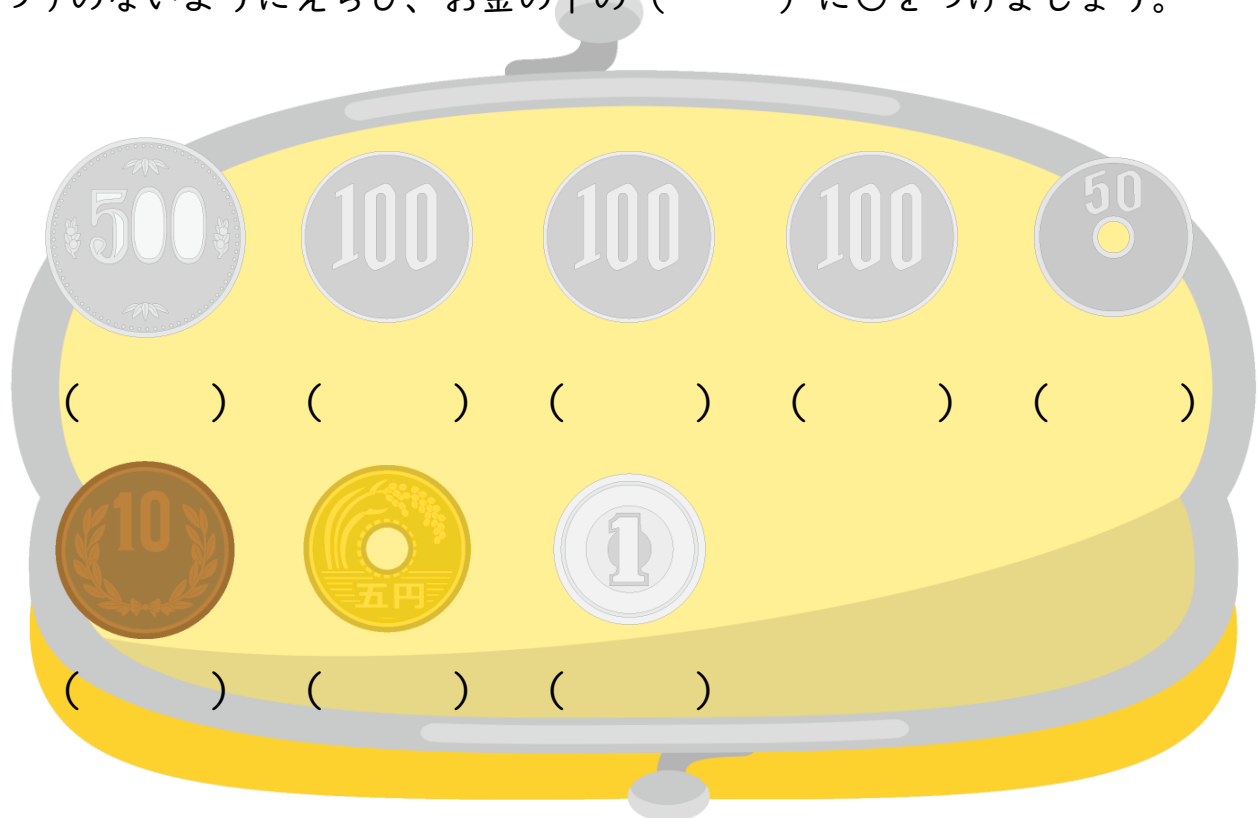
きゅうり 3本とトマト2こを買いたいと思います。きゅうり 1本40円の
A店と3本で100円のB店では、どちらの店の方がやすいですか。(おとく
ですか。) トマトはどちらの店も1こ100円です。

もんだい しき こた か かんが
【問題1】式と答えを書いて考えてみましょう。

しき
(式)

こた
(答え)

もんだい ほう みせ か とき かね つか
【問題2】やすい方のお店で買う時、どのお金を使ったらいいでしょうか。お
つりのないようにえらび、お金の下の()に○をつけましょう。



5

かもの 買い物クイズ2

なまえ



ぶん よ した もんだい こた
文を読んで下の問題に答えましょう。

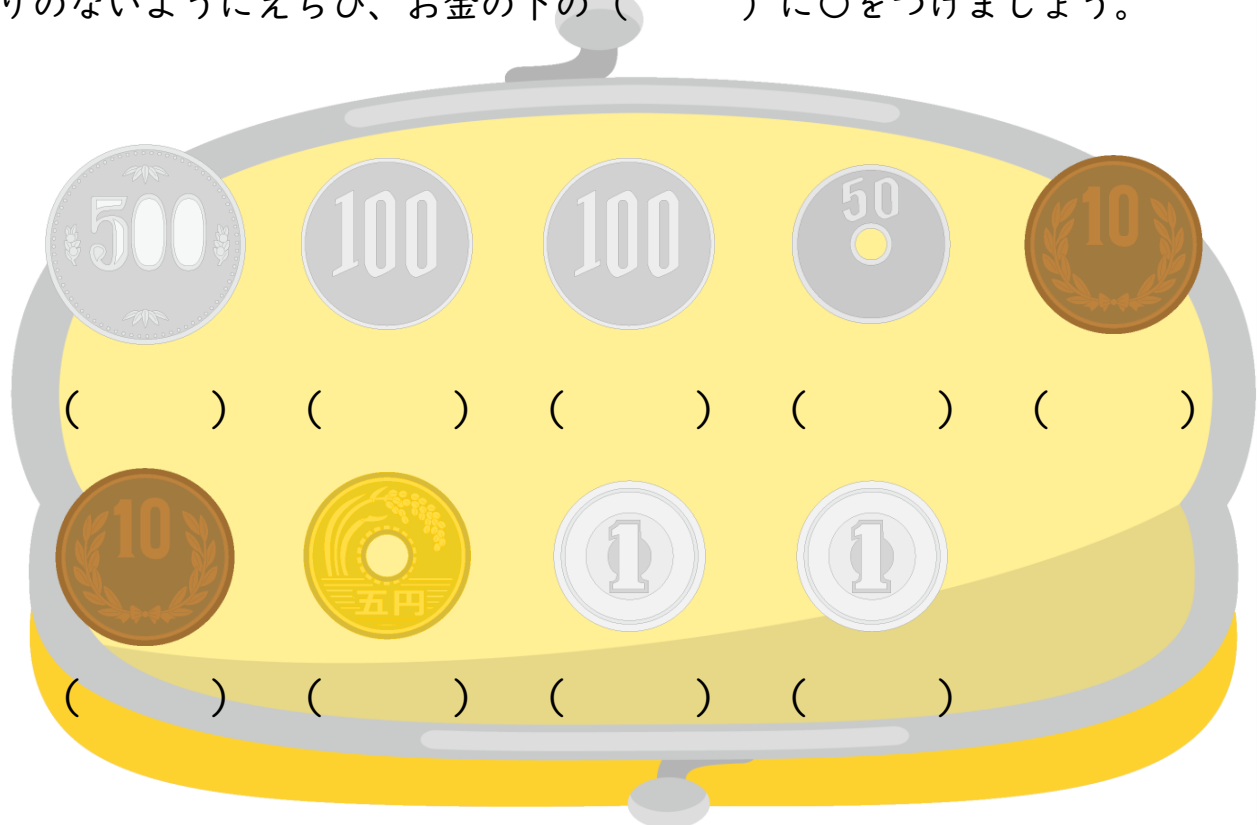
レストランでピザとジュースをたのみます。ピザは 500^{えん}で、ジュースは 150^{えん}です。2つをセットにすると 600^{えん}になります。セットにすると何^{なん}円おとくですか。

もんだい しき こた か かんが
【問題1】式と答えを書いて考えてみましょう。

しき
(式)

こた
(答え)

もんだい
【問題2】セットをえらんだ^{ばあい}場合、どのお金^{かね}を使^{つか}ったらいいでしょうか。おつりのないようにえらび、お金の^{かね}下^{した}の () に○をつけましょう。



6

かもの 買い物クイズ2

なまえ



ぶん よ した もんだい こた
文を読んで下の問題に答えましょう。

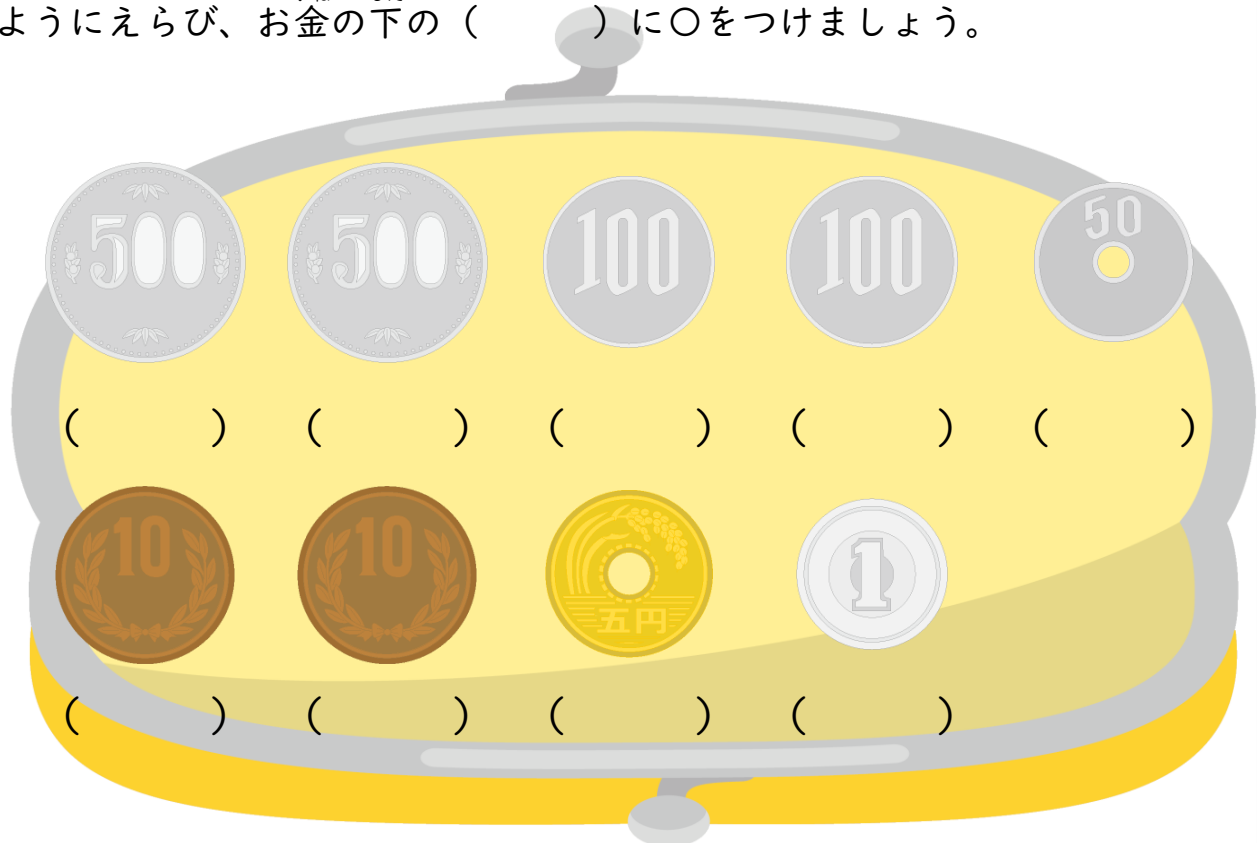
レストランでスパゲティとサラダをたのみます。スパゲティは、750円でサラダは、350円です。2つをセットにすると1050円になります。セットで注文すると、何円おとくですか。

もんだい しき こた か かんが
【問題1】式と答えを書いて考えてみましょう。

しき
(式)

こた
(答え)

もんだい ばあい かね つか
【問題2】セットの場合、どのお金を使ったらいいでしょうか。おつりのないようにえらび、お金の下の()に○をつけましょう。



7

か 物の 買い物クイズ 2

なまえ



ぶん よ した もんだい こた
文を読んで下の問題に答えましょう。

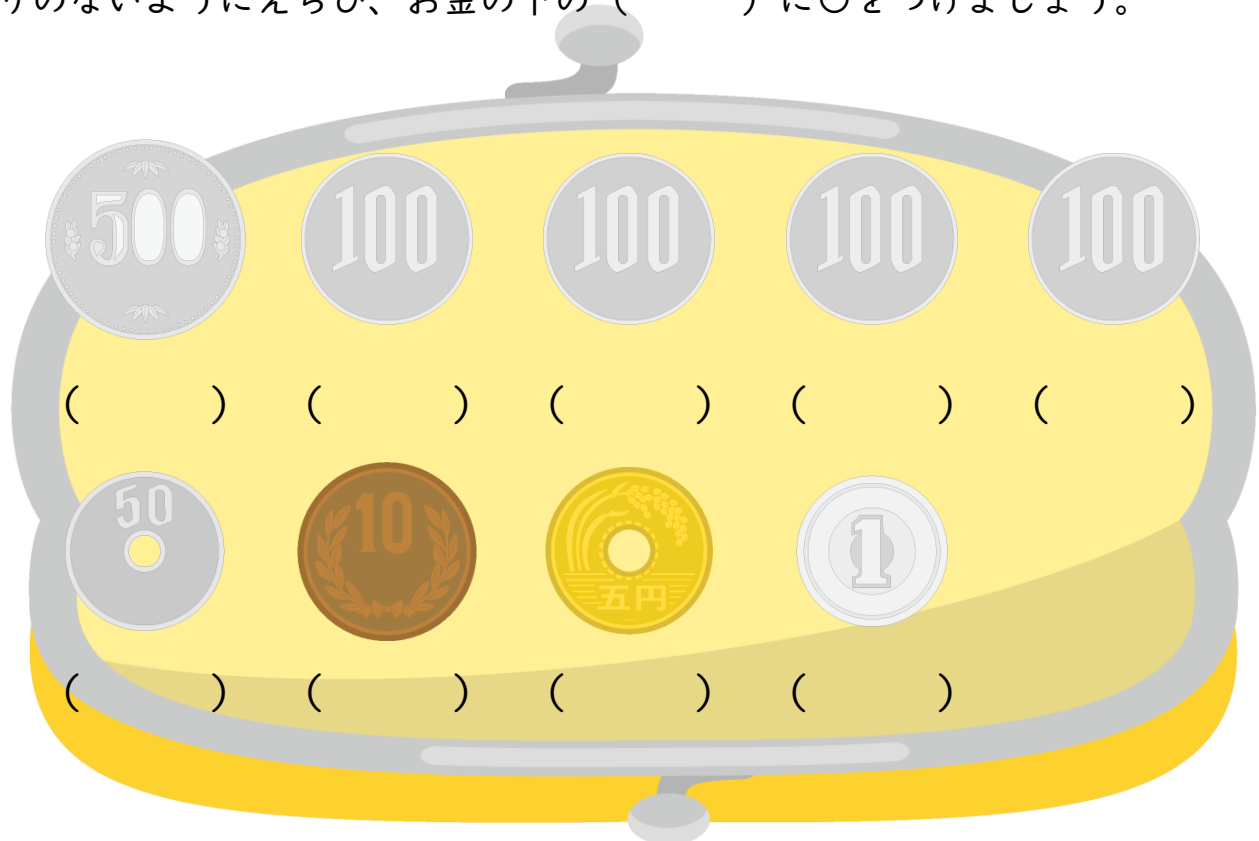
レストランでハンバーグとサラダとパンをたのみます。ハンバーグは 500円、サ
ラダは 200円で、パンは 200円です。セットにすると 800円になります。セットにする
と何円おとくですか。

もんだい しき こた か かんが
【問題1】 式と答えを書いて考えてみましょう。

しき
(式)

こた
(答え)

もんだい ばあい かね つか
【問題2】 セットをえらんだ場合、どのお金を使ったらいいでしょうか。おつ
りのないようにえらび、お金の下の () に○をつけましょう。



8

か 物の 買い物クイズ 2

なまえ



ぶん よ した もんだい こた
文を読んで下の問題に答えましょう。

コップを3こ買いたいと思います。


3こで1000円のA店と1こ300円のB店では、どちらの方がやすいですか。(おとくですか。) A店もB店も同じコップです。

もんだい しき こた か かんが
【問題1】式と答えを書いて考えてみましょう。

しき
(式)

こた
(答え)

もんだい ほう みせ か ばあい かね
【問題2】やすい方のお店で買う場合、おつりをもらうとしたら、どのお金を
つか
使ったらいいでしょうか。



9

かもの 買い物クイズ2

なまえ



ぶん よ した もんだい こた
文を読んで下の問題に答えましょう。

タオルを2まい買います。2まい1500円のA店と1まい600円のB店
があります。どちらの店の方がやすいですか。(おとくですか。) タオルは、
どちらの店も同じです。

もんだい しき こた か かんが
【問題1】式と答えを書いて考えてみましょう。

しき
(式)

こた
(答え)

もんだい ほう みせ か ばあい かね
【問題2】やすい方のお店で買う場合、おつりをもらうとしたら、どのお金を
つか
使ったらいいでしょうか。

