

わりざん 2でわる ねん 年 くみ 組

なまえ 名前

あめが18こあります。2人で同じ数ずつ分けると、1人分は何こになりますか。

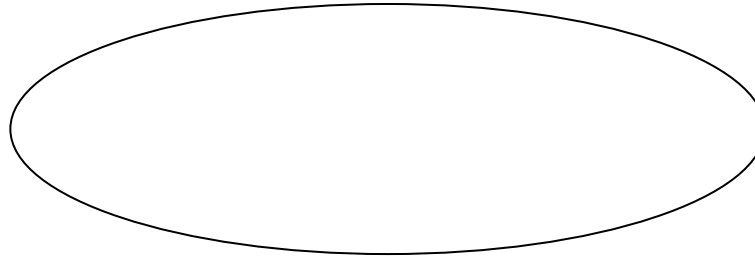
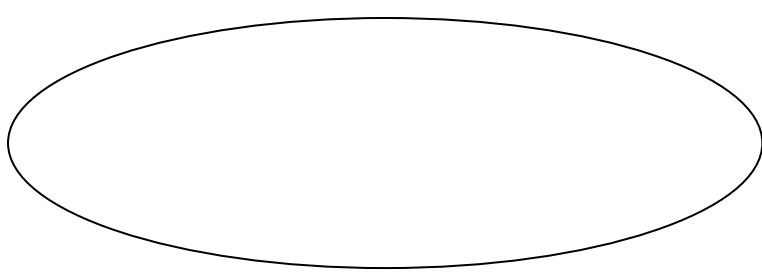
$$\square \div \square = \square$$

こたえ

こたえをみつけるのは、かけざんです。

$$2 \times \square = 18$$

絵でたしかめましょう。



あめが16こあります。2人で同じ数ずつ分けると、1人分は何こになりますか。


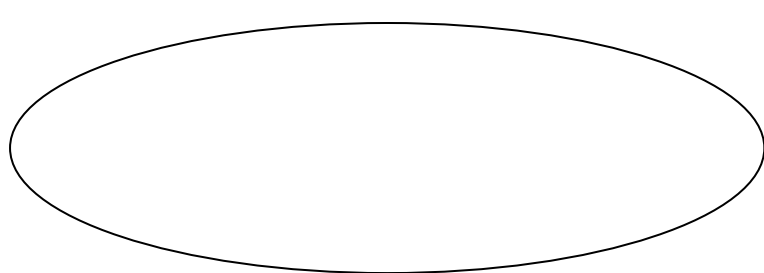
$$\square \div \square = \square$$

こたえ _____

こたえをみつけるのは、かけざんです。

$$2 \times \square = 16$$

絵でたしかめましょう。



あめが14こあります。2人で同じ数ずつ分けると、1人分は何こになりますか。

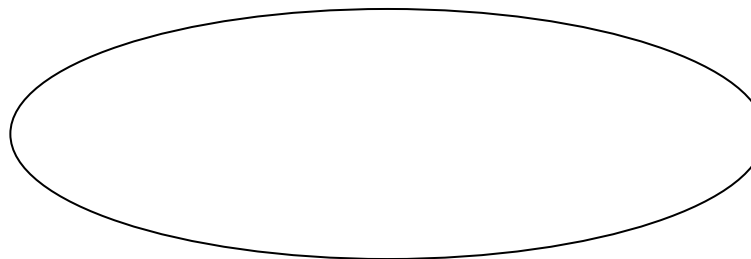
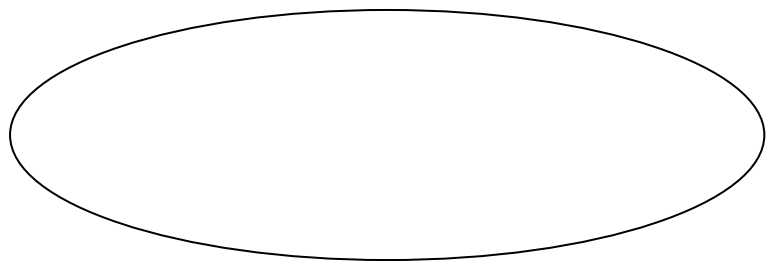
$$\square \div \square = \square$$

こたえ _____

こたえをみつけるのは、かけざんです。

$$2 \times \square = 14$$

絵でたしかめましょう。



あめが12こあります。2人で同じ数ずつ分けると、1人分は何こになりますか。

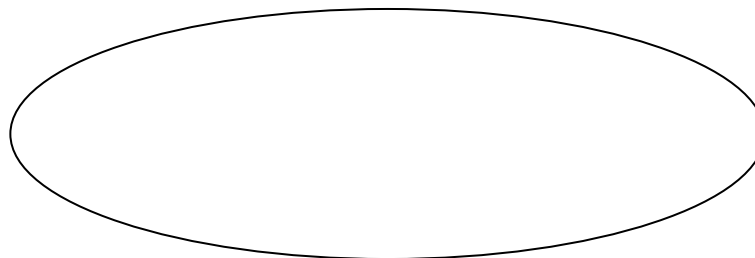
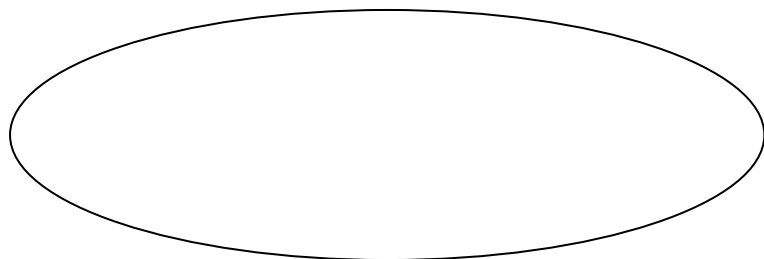
$$\square \div \square = \square$$

こたえ _____

こたえをみつけるのは、かけざんです。

$$2 \times \square = 12$$

絵でたしかめましょう。



あめが10こあります。2人で同じ数ずつ分けると、1人分は何こになりますか。

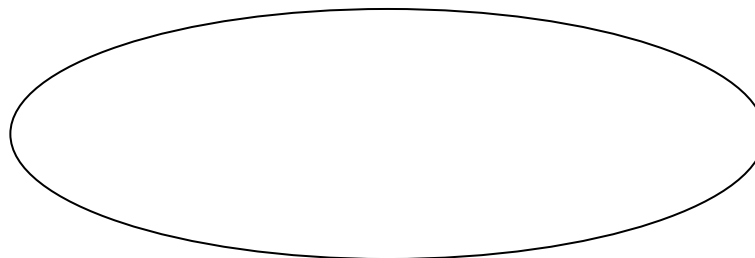
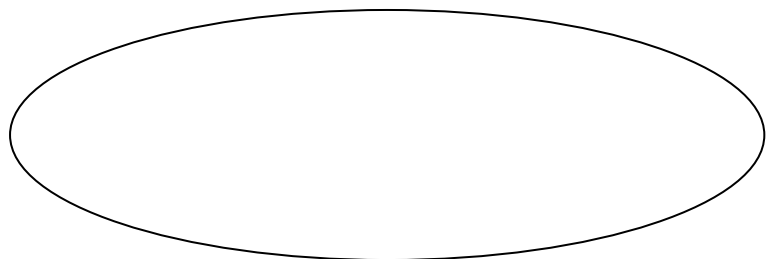
$$\square \div \square = \square$$

こたえ

こたえをみつけるのは、かけざんです。

$$2 \times \square = 10$$

絵でたしかめましょう。



あめが8こあります。2人で同じ数ずつ分けると、1人分は何こになりますか。

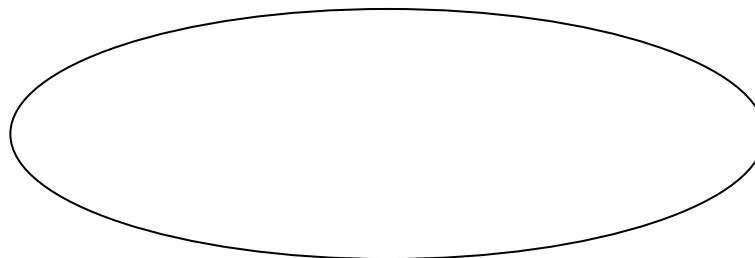
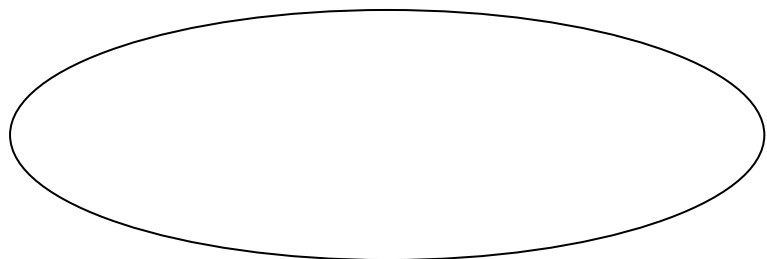
$$\square \div \square = \square$$

こたえ _____

こたえをみつけるのは、かけざんです。

$$2 \times \square = 8$$

絵でたしかめましょう。



あめが6こあります。2人で同じ数ずつ分けると、1人分は何こになりますか。

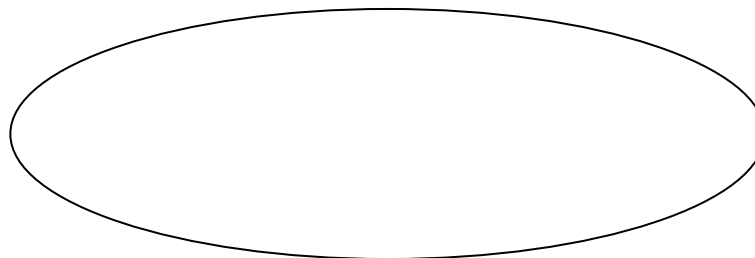
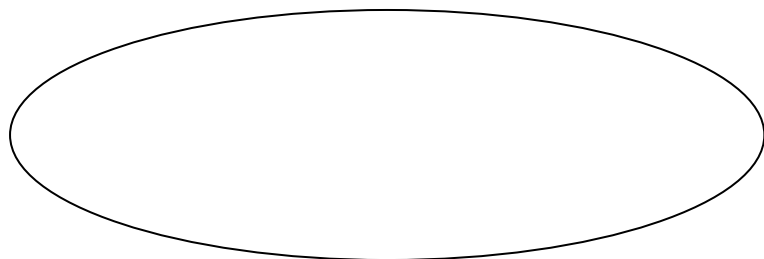
$$\square \div \square = \square$$

こたえ _____

こたえをみつけるのは、かけざんです。

$$2 \times \square = 6$$

絵でたしかめましょう。



あめが4こあります。2人で同じ数ずつ分けると、1人分は何こになりますか。

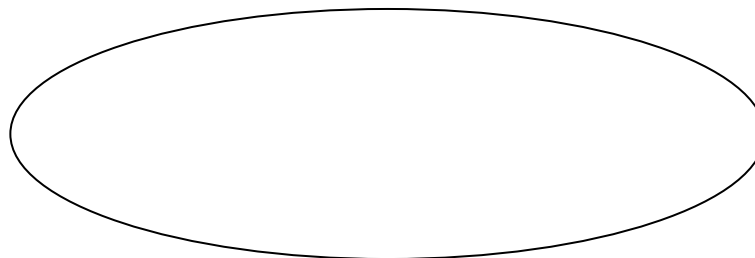
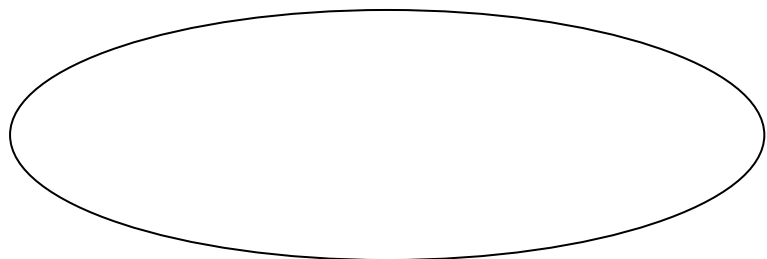
$$\square \div \square = \square$$

こたえ

こたえをみつけるのは、かけざんです。

$$2 \times \square = 4$$

絵でたしかめましょう。



あめが2こあります。2人で同じ数ずつ分けると、1人分は何こになりますか。


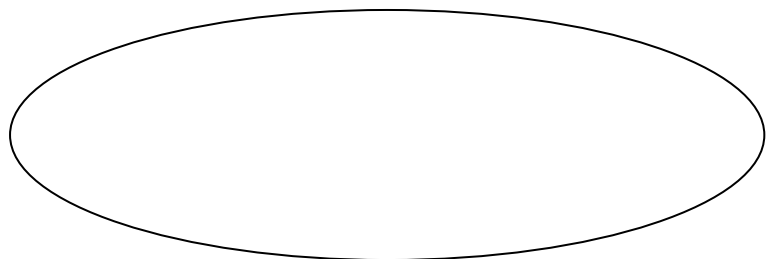
$$\square \div \square = \square$$

こたえ

こたえをみつけるのは、かけざんです。

$$2 \times \square = 2$$

絵でたしかめましょう。



あめが0こあります。2人で同じ数ずつ分けると、1人分は何こになりますか。

$$\square \div \square = \square$$

こたえ

こたえをみつけるのは、かけざんです。

$$2 \times \square = 0$$

絵でたしかめましょう。

