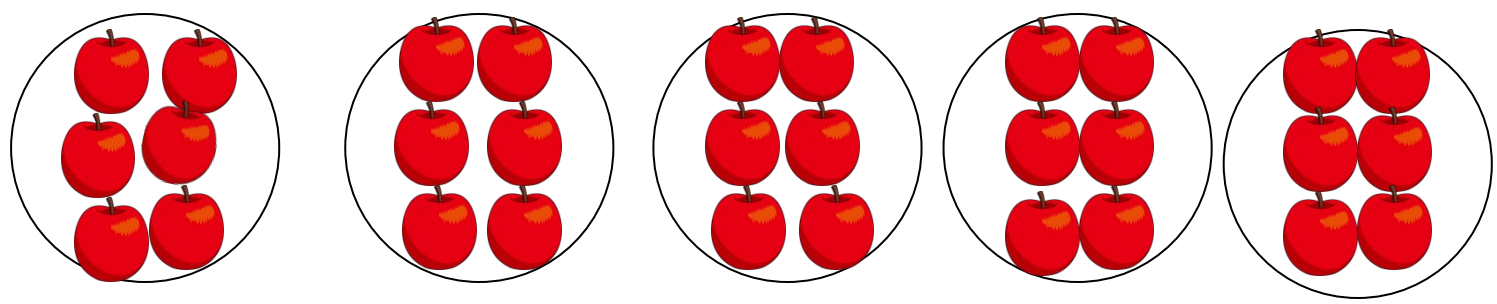


絵を見て、かけざんのしきをとこたえをかきましょう。


①りんごが1さらに6こずつの5さらがあります。りんごはぜんぶでなんこありますか。



□ × □ = □

こたえ

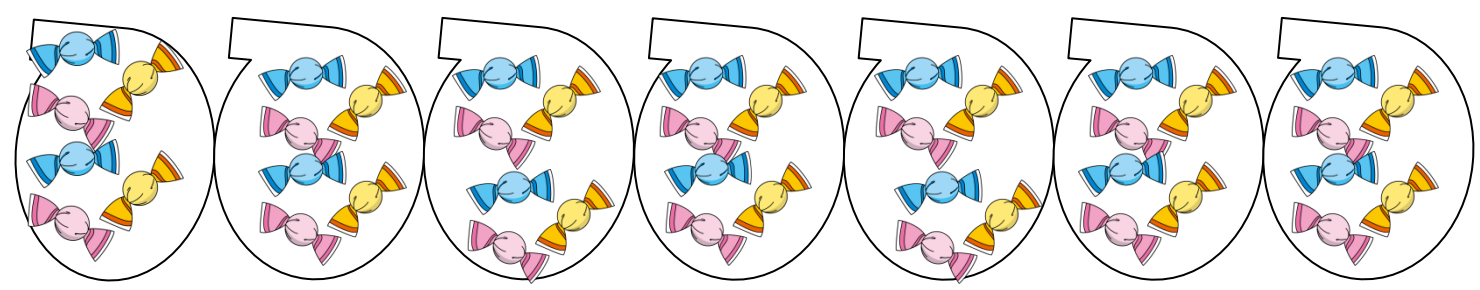
②いちごが1さらに6こずつの6さらがあります。いちごはぜんぶでなんこありますか。



□ × □ = □

こたえ

③あめが1ふくろに6こずつは7ふくろがあります。あめはぜんぶでなんこありますか。



□ × □ = □

こたえ