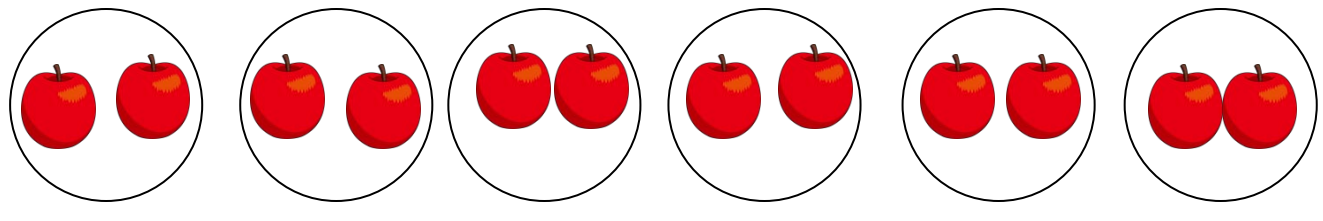


絵を見て、かけざんのしきをとこたえをかきましょう。


①りんごが1さらに2こずつのったさらが6さらあります。りんごはぜんぶで何こありますか。



$$\square \times \square = \square$$

こたえ

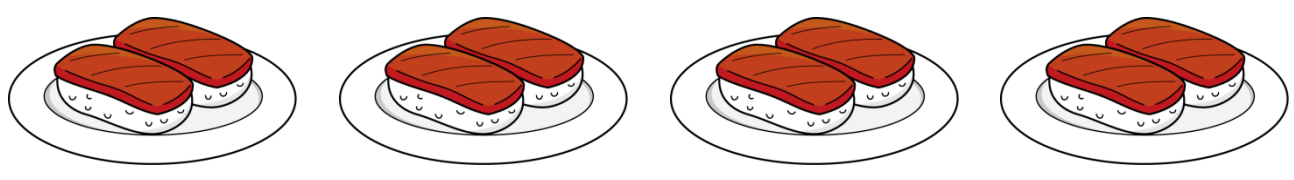
②いちごが1さらに2こずつのったさらが5さらあります。いちごはぜんぶで何こありますか。



$$\square \times \square = \square$$

こたえ

③おすしが1さらに2こずつのったさらが4さらあります。おすしはぜんぶで何こありますか。



$$\square \times \square = \square$$

こたえ
