

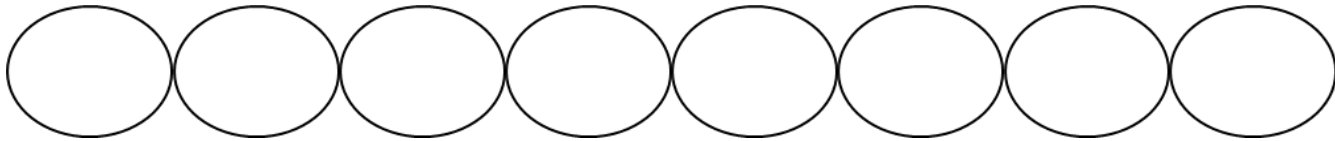

<sup>え</sup>絵を見て、<sup>み</sup>かけざんのしきをとこたえをかきましょう。

① おせんべいが28まいあります。1ふくろに4まいずつ入れたら、ふくろは何まいいりますか。

$$\square \div \square = \square$$

$$4 \times \square = 28$$

<sup>こた</sup>答え \_\_\_\_\_

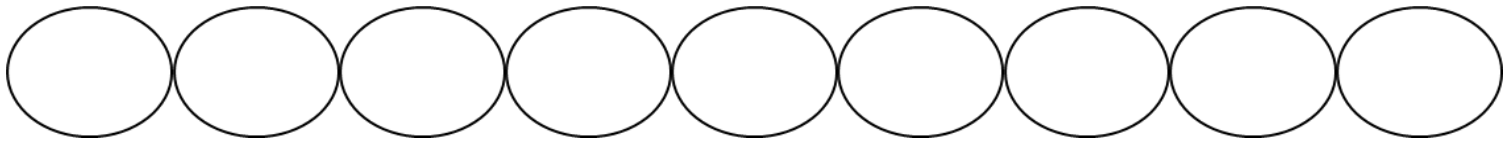


② 魚が4ひきあります。1さらに4ひきずつのせたら、さらは何まいいりますか。

$$\square \div \square = \square$$

$$4 \times \square = 4$$

<sup>こた</sup>答え \_\_\_\_\_



③ サンドイッチが32こあります。1つのさらに4こずつおいたら、さらは何まいいりますか。

$$\square \div \square = \square$$

$$4 \times \square = 32$$

<sup>こた</sup>答え \_\_\_\_\_

