

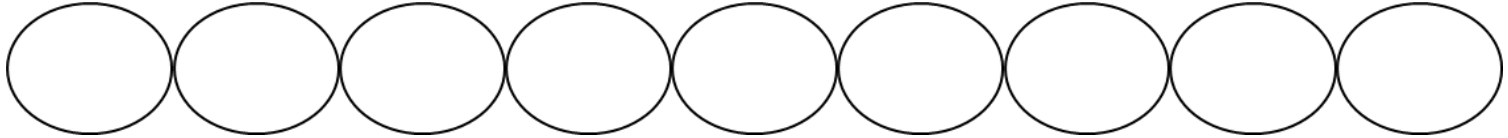
^え絵を見て、^みかけざんのしきをとこたえをかきましょう。

① キャンディが 21 があります。1ふくろに 3 こそづつ入れたら、ふくろは何ふくろいりますか。

$$\square \div \square = \square$$

$$3 \times \square = 21$$

^{こた}答え _____

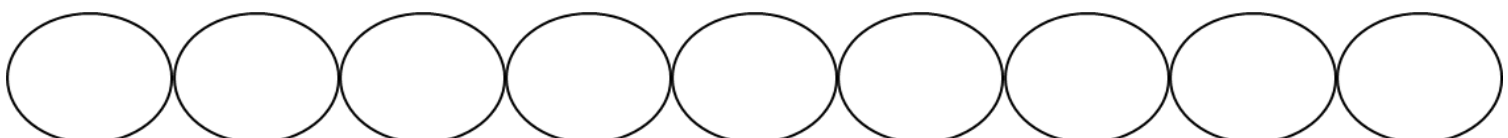



② ビスケットが 18 があります。1さらに 3 こそづつのせたら、さらは何まいいりますか。

$$\square \div \square = \square$$

$$3 \times \square = 18$$

^{こた}答え _____



③ ぶどうが 3 ぶさあります。1つのさらに 3 ぶさずつおいたら、さらは何さらいりますか。

$$\square \div \square = \square$$

$$3 \times \square = 3$$

^{こた}答え _____

