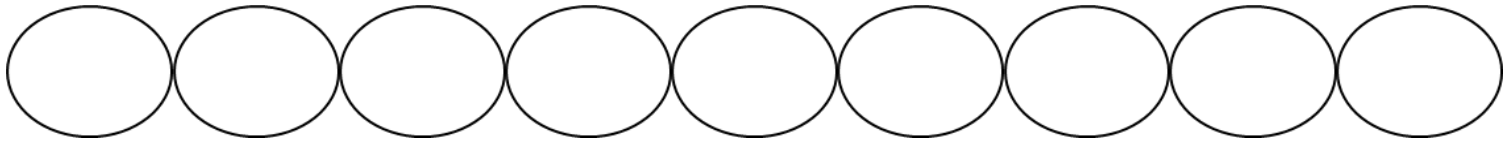


^え絵を見て、^みかけざんのしきをとこたえをかきましょう。

① ドーナツが18こあります。1さらに6こずつのせたら、さらは何まいいりますか。

$$\square \div \square = \square$$

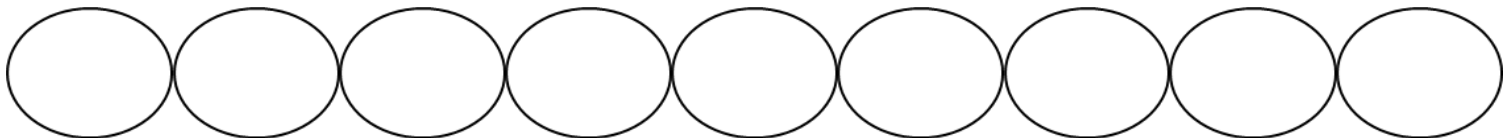

$$6 \times \square = 18 \quad \text{こた 答え} \underline{\hspace{2cm}}$$



② にんじんが6本あります。1つのふくろに6本ずつ入れたら、ふくろは何ふくろいりますか。

$$\square \div \square = \square$$

$$6 \times \square = 6 \quad \text{こた 答え} \underline{\hspace{2cm}}$$



③ パンが12こあります。1つのふくろに6こずつ入れたら、ふくろは何ふくろいりますか。

$$\square \div \square = \square$$

$$6 \times \square = 12 \quad \text{こた 答え} \underline{\hspace{2cm}}$$

