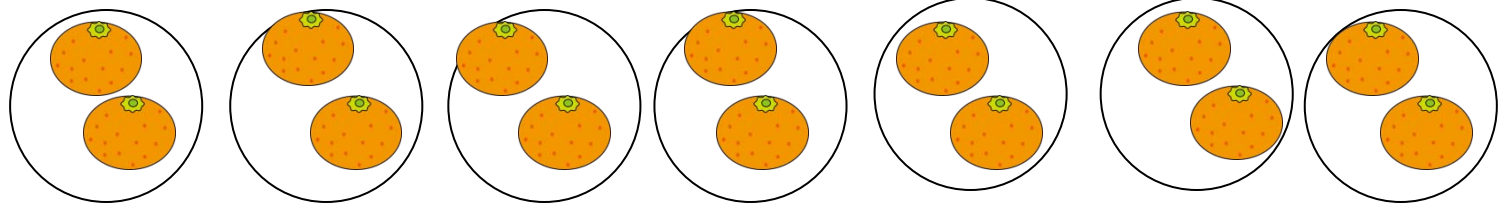


絵を見て、かけざんのしきをとこたえをかきましょう。

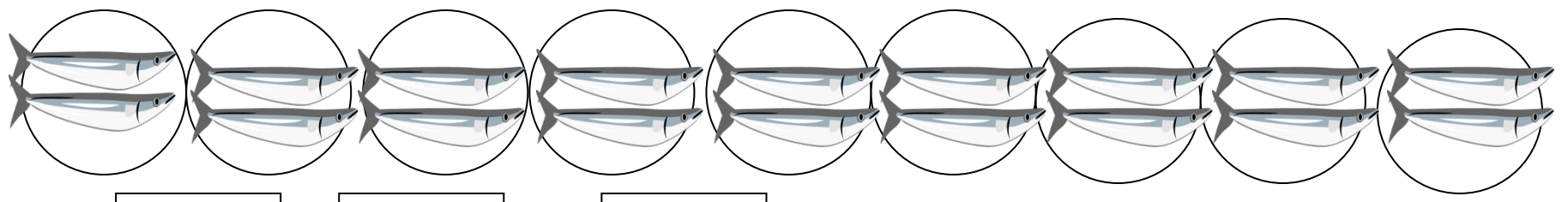
① みかんが1さらに2こずつのったさらが7さらあります。みかんはぜんぶで何こありますか。



□ × □ = □

こたえ

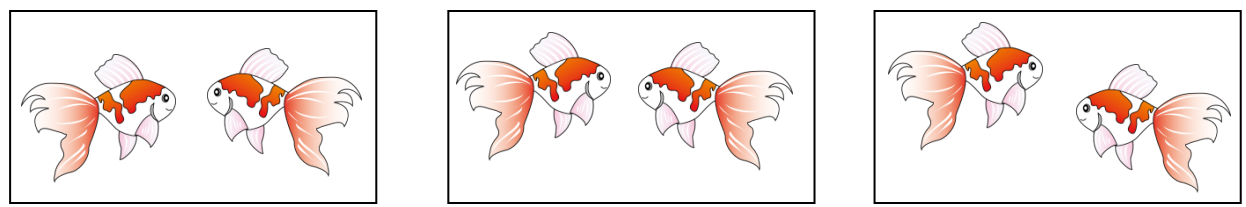
② 魚が1さらに2ひきずつのったさが9さらあります。魚はぜんぶで何ひきありますか。



□ × □ = □

こたえ

③ 金魚が2ひきずつ入った水そうが3こあります。金魚はぜんぶで何ひきいますか。



□ × □ = □

こたえ