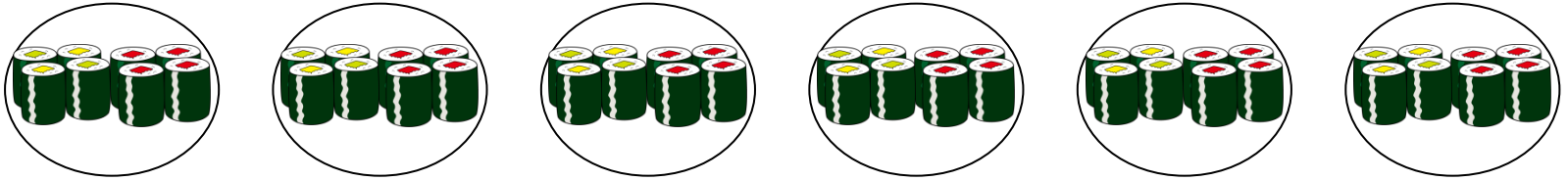


絵を見て、かけざんのしきをとこたえをかきましょう。

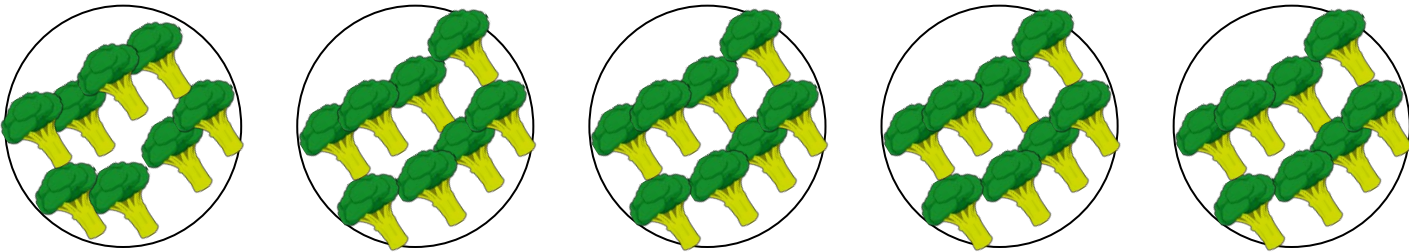
①おすしが1さらに8こずつのたさらが6さらあります。おすしはぜんぶで何こありますか。



$$\square \times \square = \square$$

こたえ


②ブロッコリーが1さらに8こずつのたさらが5さらあります。ブロッコリーはぜんぶで何こですか。



$$\square \times \square = \square$$

こたえ

③いちごが1さらに 8こずつ のっています。7さらでは いちごは 何こですか。



$$\square \times \square = \square$$

こたえ
